

平成21年度

札幌日本大学中学校

入学試験問題

社 会

試験時間 50分

1. 指示があるまで、問題冊子を開いてはいけません。
2. 答えは、解答用紙に記入してください。問題は **1** ～ **5** まであります。
3. 試験監督の先生の指示に従って、試験を開始してください。
4. 試験の途中で、トイレに行きたくなったり、気分が悪くなったりした場合は、手をあげて試験監督の先生の指示を受けてください。
5. 試験開始の指示があってから、解答用紙に「氏名」「受験番号」を記入してください。
6. 解答用紙には、解答以外を記入しないでください。
7. 試験が早く終わっても、周囲を見回したり、横を向いたりしてはいけません。試験監督の先生から注意を受けることがあります。
8. 机の上には、筆記用具以外は置いてはいけません。風邪などにより、ティッシュペーパーを使用したい場合は、予め試験監督の先生に申し出てください。

1 次の表は、世紀ごとにおこったできごとをまとめたものです。これについて、あとの問いに答えなさい。ただし、それぞれのできごとは、おこった時代の古い順に並んでいます。

世紀	おこったできごと
12世紀	<ul style="list-style-type: none">● 平清盛が太政大臣となる● ㉑源平合戦がおこる● <input type="text" value="A"/> が征夷大將軍となる
13世紀	<ul style="list-style-type: none">● ㉒承久の乱がおこる● 御成敗式目が制定される● ㉓元が襲来する
14世紀	<ul style="list-style-type: none">● 建武の新政が行われる● 足利尊氏が征夷大將軍となる● ㉔南北朝が合一される
15世紀	<ul style="list-style-type: none">● ㉕日明貿易がはじめられる● 応仁の乱がおこる● 山城の国一揆がおこる
16世紀	<ul style="list-style-type: none">● 鉄砲が伝来する● ㉖刀狩令が出される● 関ヶ原の戦いがおこる
17世紀	<ul style="list-style-type: none">● 徳川家康が征夷大將軍となる● 武家諸法度に㉗参勤交代の制度が加えられる● 鎖国が完成する
18世紀	<ul style="list-style-type: none">● 享保の改革が行われる …… X● 寛政の改革が行われる …… Y● <input type="text" value="B"/> が幕府の命令を受け、蝦夷地の測量を開始する
19世紀	<ul style="list-style-type: none">● 天保の改革が行われる …… Z● ㉘安政の五カ国条約が結ばれる● 大政奉還が行われる

(1) 表中の ・ にあてはまる人物の名を漢字で答えなさい。

(2) 表中の下線部㉔について、源平合戦としてあてはまらないものを、次のア～エから選び、記号で答えなさい。

- ア 屋島の戦い イ 倶利伽羅峠の戦い ウ 富士川の戦い
エ 桶狭間の戦い

(3) 表中の下線部㉕について、承久の乱以後、鎌倉幕府が朝廷の監視などのために、京都に設置した機関の名を答えなさい。

(4) 表中の下線部㉖について、元の襲来は二度にわたっておこりました。この二度の襲来を次のア～エから選び、時代の古い順に記号で答えなさい。

- ア 慶長の役 イ 文禄の役 ウ 弘安の役 エ 文永の役

(5) 表中の下線部㉗について、南朝がおかれていた場所としてあてはまるものを、次のア～エから選び、記号で答えなさい。

- ア 吉野 イ 近江 ウ 伊賀 エ 伊勢

(6) 表中の下線部㉘について、日明貿易のときに、日本が輸入したものとしてあてはまらないものを、次のア～エから選び、記号で答えなさい。

- ア 刀剣 イ 銅銭 ウ 生糸 エ 絹織物

(7) 表中の下線部㉙について、刀狩令を制定した人物に関係の深いことから、次のア～オから3つ選び、時代の古い順に並べなさい。

- ア 小田原の北条氏を滅ぼす
イ 太閤検地を始める
ウ 延暦寺を焼き打ちする
エ 安土城下を楽市とする
オ 朝鮮出兵を行う

(8) 表中の下線部㉚について、参勤交代が制度化されたことによって、街道の整備がすすみました。これらの街道のうち、江戸日本橋と京都三条大橋の間を結ぶ53宿の街道の名を答えなさい。

(9) 表中の下線部㉛について、安政の5か国条約は、治外法権を認める、関税自主権がないという、日本にとって不平等なものでした。この不平等条約の改正が完全に達成できた年を次のア～エから選び、記号で答えなさい。

- ア 1902年 イ 1905年 ウ 1911年 エ 1917年

(10) 表中のX～Zについて、この3つの改革のなかで、次の内容にあてはまるものを選び、記号で答えなさい。

- ・株仲間を解散した。
- ・江戸に流入した人々を強制的に帰す人返しの法を定めた。

(11) 次の①～④のできごとがおこった世紀を、表中の12世紀～19世紀から選び、数字で答えなさい。

- ① 日光東照宮が造営される。
- ② 雪舟が「山水長巻」を完成する。
- ③ キリスト教が日本に伝来する。
- ④ 親鸞が浄土真宗をひらく。

2 次のA～Eのできごとについて、あとの問いに答えなさい。

A このできごとは、^a第一次世界大戦の終結後の民族運動の高まりのなか、日本の統治下にあった朝鮮でおこった反日独立運動です。この運動に参加した朝鮮の人々が、「独立万歳」と叫んでいたことから、万歳事件ともよばれています。

B このできごとは、中国の(b)郊外の^{こう}盧溝橋^{ろこうきょう}で、夜間練習中に^{だん}弾丸^{だん}がとんできたことを理由に、日本軍が中国軍を^{げき}攻撃^{げき}したという事件です。この事件がきっかけとなって、日本と中国は、全面的な戦争状態へと入っていきました。

C このできごとは、中国の東北部に満州国が建国された直後に、海軍軍人らのグループが、首相官邸に押し入って、^c内閣総理大臣^{ないかくそうりだいじん}を殺害したほか、日本銀行や警視庁などを^{おそ}襲^{おそ}った事件です。

D このできごとは、東インド艦隊司令官のペリーが、4せきの軍艦をひきいて、^d浦賀^{うらが}に来航した事件です。ペリーは、(e)の大統領フィルモアからの国書を提出して、日本の開国を要求しました。

E このできごとは、^fポーツマス条約^{ポーツマスじょうやく}の内容に^{ばいしょう}賠償金^{ばいしょう}がふくまれていないことに不満をもった人々が、東京の日比谷公園で開かれた大会に集まった後、新聞社や交番に放火するなどの暴動をおこした事件です。

(1) A文中の下線部aについて、①・②の問いに答えなさい。

① 第一次世界大戦は、バルカン半島でおこったサラエボ事件がきっかけとなっておこったものです。サラエボ事件について説明した次の文中の I ・ II にあてはまる国の名を、あとのア～カからそれぞれ選び、記号で答えなさい。

サラエボ事件とは、 I の皇太子夫妻が、ボスニアの首都サラエボで、 II 人の青年に暗殺された事件です。

ア ドイツ イ フランス ウ スイス エ オーストリア
オ セルビア カ トルコ

② 第一次世界大戦の講和条約の名を答えなさい。

(2) B文中の (b) にあてはまる地名を次のア～エから選び、記号で答えなさい。

ア 南京 イ 北京 ウ 旅順 エ 上海

(3) C文中の下線部cについて、この人物の名を漢字で答えなさい。また、この事件の当時、彼は何という政党の総裁でしたか。次のア～エから選び、記号で答えなさい。

ア 自由党 イ 立憲改進黨 ウ 立憲政友会 エ 立憲同志会

(4) D文中の下線部dについて、浦賀は現在のどの都道府県に位置していますか。都道府県名を漢字で答えなさい。

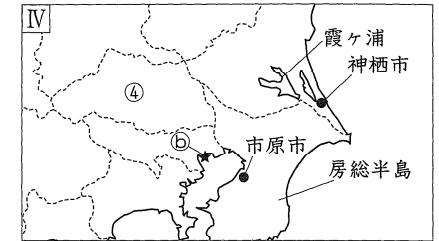
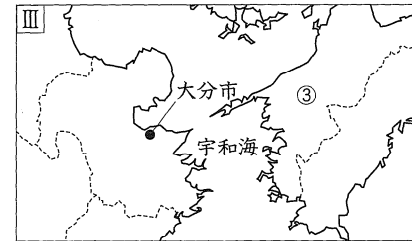
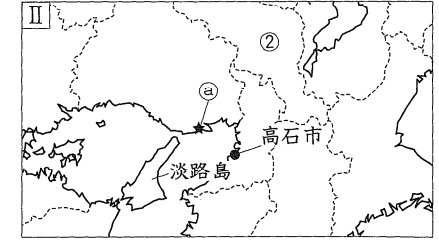
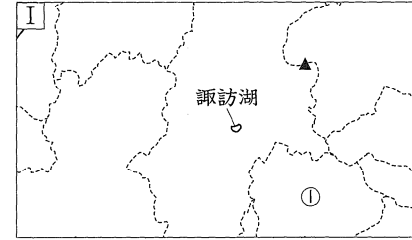
(5) D文中の (e) にあてはまる国の名を答えなさい。

(6) E文中の下線部fについて、ポーツマス条約の内容としてあてはまるものを、次のア～エから選び、記号で答えなさい。

ア 日本は、ドイツ領南洋諸島の支配を認められる。
イ 日本は、サハリンの南半分を譲りうける。
ウ 日本は、台湾を譲りうける。
エ 日本は、千島列島を譲りうける。

(7) A～Eのできごとを時代の古い順に並べかえたとき、2番目と4番目のできごととしてあてはまるものを、A～Eから選び、記号で答えなさい。

3 次のI～IVの地図について、あとの問いに答えなさい。



(1) Iの地図について、地図中の▲の山ろくに位置する^{つまごい}嬌恋村では、夏のすずしい気候を利用したキャベツなどの高原野菜の栽培がさかんです。▲の山の名を次のア～エから選び、記号で答えなさい。

ア 浅間山 イ 富士山 ウ 蔵王山 エ ハケ岳

(2) Iの地図について、地図中の諏訪湖周辺の岡谷市や諏訪市では、精密機械工業がさがんに行われています。次のア～エから精密機械工業の製品としてあてはまらないものを選び、記号で答えなさい。

ア 顕微鏡 イ ファインセラミックスのはさみ ウ オルゴール
エ カメラ

(3) IIの地図について、地図中の淡路島と本州を結ぶ連絡橋を、次のア～エから選び、記号で答えなさい。

ア 鳴門海峡大橋 イ 来島海峡大橋 ウ 明石海峡大橋
エ 瀬戸大橋

(4) IIIの地図について、地図中の宇和海では真珠の養殖がさかんに行われています。真珠の養殖がさかんな三重県の湾の名を、次のア～エから選び、記号で答えなさい。

ア 陸奥湾 イ 相模湾 ウ 英虞湾 エ 駿河湾

(5) IVの地図中の霞ヶ浦について、霞ヶ浦周辺の低地では、多くの水路や湖沼がみられることから、特に○○地帯とよばれています。○○にあてはまることを漢字で答えなさい。

(6) II～IVの地図中の●の都市では、ある共通した工業がさかんに行われています。どのような工業ですか。工業の種類を答えなさい。

(7) IIの地図中の㊸とIVの地図中の㊹は、貿易港を示しています。それぞれの貿易港の輸出入品目割合(2006年)としてあてはまるものを、次のア～オから選び、記号で答えなさい。

ア

イ

輸出品目	百万円	%	輸入品目	百万円	%
プラスチック	288 641	5.0	衣類	238 241	8.9
建設・鉱山用機械	256 846	4.5	たばこ	156 795	5.9
織物類	251 215	4.4	有機化合物	93 946	3.5
自動車	193 772	3.4	魚介類	79 435	3.0
音響・映像機器部品	179 105	3.1	はきもの	64 003	2.4
総計	5 745 687	100.0	総計	2 674 651	100.0

ウ

エ

輸出品目	百万円	%	輸入品目	百万円	%
コンピュータ部品	463 651	9.2	魚介類	491 001	7.0
プラスチック	288 730	5.7	衣類	481 686	6.9
自動車部品	283 491	5.6	コンピュータ	477 715	6.8
精密機械	206 556	4.1	肉類	372 779	5.3
内燃機関	204 847	4.1	音響・映像機器(含部品)	295 715	4.2
総計	5 027 171	100.0	総計	6 985 769	100.0

オ

輸出品目	百万円	%	輸入品目	百万円	%
自動車	1 533 460	19.7	石油	492 393	12.7
自動車部品	524 842	6.7	アルミニウム	277 830	7.2
建設・鉱山用機械	369 746	4.7	液化ガス	185 450	4.8
内燃機関	312 970	4.0	衣類	179 758	4.6
プラスチック	279 674	3.6	有機化合物	83 335	2.2
総計	7 797 950	100.0	総計	3 868 840	100.0

(「日本国勢図会」2008/09年版より作成)

(8) I～IVの地図中のいずれにも位置していない川を、次のア～キから2つ選び、記号で答えなさい。

ア 天竜川 イ 北上川 ウ 淀川 エ 利根川 オ 木曾川
カ 最上川 キ 千曲川

(9) I～IVの地図中に示されている①～④の都道府県の名を漢字で答えなさい。

(10) 東経135度の経線が通っているのは、I～IVの地図のうちのどれですか。記号で答えなさい。

4 次の表㉠～㉡について、あとの問いに答えなさい。

㉠ 世界の小麦の国別生産量・割合(単位:千t)

	2004年	2005年	2006年	2006年(%)
(X)	91956	97449	104470	17.2
(Y)	72156	68637	69350	11.4
アメリカ合衆国	58738	58740	57298	9.5
ロシア	45413	47698	45006	7.4
フランス	39693	36886	35367	5.8
(Z)	25860	26775	27277	4.5
ドイツ	25427	23693	22428	3.7
世界計(その他含む)	633303	628698	605946	100.0

㉡ 世界の小麦の国別輸出量(小麦粉を含まず,単位:千t)

	2004年	2005年
アメリカ合衆国	31792	27487
フランス	14906	16023
(Z)	15134	13978
オーストラリア	18486	13915
アルゼンチン	9977	10425
ロシア	4672	10333
ウクライナ	2554	6009
世界計(その他含む)	119339	120250

㉢ 日本の小麦の国別輸入量(単位:千t)

	2000年	2005年	2006年	2007年
アメリカ合衆国	3175	3102	3002	3167
(Z)	1483	1243	1193	1136
オーストラリア	1194	1107	1134	948
計(その他含む)	5854	5472	5337	5275

(「日本国勢図会」2008/09年度などより作成)

(1) 表㉠～㉡中の(X)～(Z)にあてはまる国の名を答えなさい。

(2) 表㉠～㉡中のアメリカ合衆国について、アメリカ合衆国では、石油にかわるあるエネルギーの原料となるとともにこの栽培が増え、小麦から転作する農家が増えています。このエネルギーとは何ですか。カタカナで答えなさい。

(3) 表㉡中のオーストラリアについて、日本はオーストラリアから多くの小麦を輸入していますが、2006年と2007年をくらべてみると、輸入量がへっていることがわかります。その原因のおもなものに、オーストラリアで起こったある自然災害が考えられます。この自然災害とは何ですか。次のア～エから選び、記号で答えなさい。

ア ハリケーン イ 洪水 ウ 竜巻 エ 干ばつ

(4) 日本の小麦の自給率(2006年)としてあてはまるものを、次のア～エから選び、記号で答えなさい。

ア 5% イ 13% ウ 27% エ 39%

5 次の資料について、あとの問いに答えなさい。

第一条

すべての人間は、生れながらにして自由であり、かつ、尊厳と権利とについて平等である。人間は、理性と良心とを授けられており、互いに同胞の精神をもって行動しなければならない。

第二条

1 すべて人は、人種、皮膚の色、性、言語、宗教、政治上その他の意見、国民的若しくは社会的出身、財産、門地その他の地位又はこれに類するいかなる事由による差別をも受けることなく、この宣言に掲げるすべての権利と自由とを享有することができる。

(1) この資料は、1948年に開かれた国際連合の総会で採択された、ある宣言の一部です。この資料と国際連合について①～③の問いに答えなさい。

① この資料が示している宣言の名を答えなさい。

② 国際連合の設立年を西暦で答えなさい。

③ 国際連合の本部がおかれている都市の名を次のア～エから選び、記号で答えなさい。

ア ハーグ イ ニューヨーク ウ ジュネーブ エ ブリュッセル

(2) (1)の宣言の精神を守るために、国際連合や各国でも、さまざまな取り組みが行われていますが、NGOの中にも、独自の調査活動を行い、国際連合や各国の政策に対して提言などを行っている、国際的なネットワークをもつNGOがあります。また、このNGOは、1977年に、ノーベル平和賞を受賞しています。このNGOの名をカタカナで答えなさい。

(3) 裁判においても、(1)の宣言の精神は守られなければなりません。これについて、①・②の問いに答えなさい。

① 2009年5月から、日本では、国民が裁判に参加するという制度が実施されます。この制度の名を答えなさい。

② ①の制度のもとで、国民が裁判に参加するのは、ある特定の裁判所で行われる、殺人や放火などの刑事裁判です。ある特定の裁判所としてあてはまるものを、次のア～エから選び、記号で答えなさい。

ア 最高裁判所 イ 高等裁判所 ウ 地方裁判所 エ 家庭裁判所