

平成 20 年度

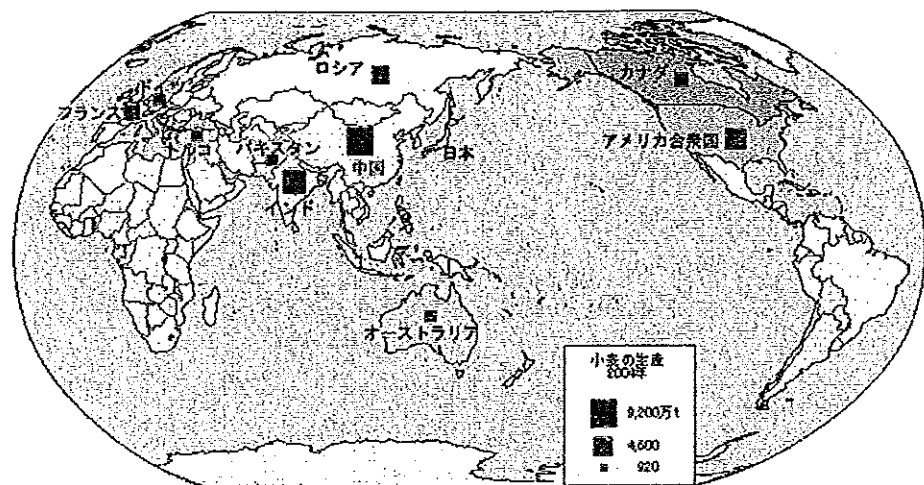
北嶺中学校入学試験問題

社 会

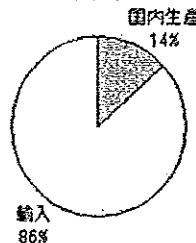
(注意)

- 1 問題用紙が配られても、「はじめ」の合図があるまでは、中を開かないでください。
- 2 問題は全部で **18** ページで、解答用紙は 1 枚です。「はじめ」の合図があったら、まず、ページ数を確認してからはじめてください。もし、ページがぬけていたり、印刷されていない場合、静かに手をあげて先生に伝えてください。
- 3 答えはすべて解答用紙の指定された解答らんを書いてください。
- 4 字数が指定されている場合には、特に指示のないかぎり句読点も数えてください。
- 5 質問があったり、用事ができた場合には、だまって手をあげて先生に伝えてください。ただし、問題の考え方や、言葉の意味・読み方などについての質問には答えられませんので注意して下さい。
- 6 「おわり」の合図で鉛筆をおき、先生が解答用紙を集め終わるまで、静かに待っていてください。

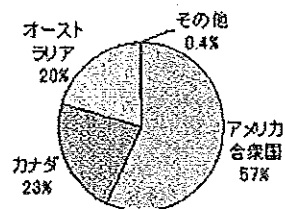
(3) 文中の下線部(c)について、次の地図は世界のおもな小麦生産国を示し、グラフは日本の小麦の輸入について表しています。これらの地図とグラフから読み取れることを述べた文を、下のアーエのうちから1つ選び、記号で答えなさい。



小麦の輸入と国内生産の割合
2004年



小麦の輸入先
2005年 547万t



- ア 中国は世界最大の小麦の生産国であると同時に、世界最大の小麦の輸出国でもあります。
- イ オーストラリアの小麦の生産量は日本より少ないが、世界で第3位の小麦の輸出国です。
- ウ 日本はヨーロッパの国々からは小麦をまったく輸入していません。
- エ 日本で消費される小麦の約49%はアメリカ合衆国から輸入された小麦です。

(4) 文中の下線部(d)について、天ぷらそばの食材と、それを日本がもっとも多く輸入している国との組み合わせとして誤っているものを、次のアーエのうちから1つ選び、記号で答えなさい。

- ア そば - 中国
- イ 天ぷらの衣ころもの小麦 - アメリカ合衆国
- ウ 天ぷらのエビ - ロシア連邦
- エ しょうゆの原料の大豆 - アメリカ合衆国

(5) 文中の下線部(e)について、現在の韓国(大韓民国)のある朝鮮半島と日本は、古い時代から深い関係がありました。これについて述べた文アーエのうち、誤りを含むものを1つ選び、記号で答えなさい。

- ア 朝鮮半島にあった百済の王が日本の天皇に仏像や経典を贈り、日本に仏教が伝わりました。漢字や儒教も朝鮮半島から日本に伝来したと考えられています。

イ 室町幕府は朝鮮との間に勘合を用いた正式の貿易を行い、また朝鮮は幕府の将軍が代替わりするたびに通信使を派遣しました。

ウ 日清戦争と日露戦争に勝利した日本は朝鮮への支配権を強め、1910年に朝鮮半島全域を日本の植民地にしました。

エ 第2次世界大戦後に起こった朝鮮戦争で、日本はアメリカから武器などの注文を大量にうけたので経済が活発となり、経済復興のきっかけとなりました。

(6) 文中の空らん(あ)に適する都市の名を答えなさい。

(7) 文中の下線部(f)について、次の①~②の問いに答えなさい。

- ① このサミットは今年の7月7~9日の3日間、北海道のある湖畔で開かれる予定です。この湖の名を答えなさい。
- ② サミットは「山の頂上」を意味する英語ですが、この呼び名が表す会議の名称として適切なものを、次のアーエのうちから1つ選び、記号で答えなさい。

ア 気候変動枠組条約締約国会議

イ G8(主要8カ国首脳会議)

ウ 国際連合代表者会議

エ 環境と開発に関する国際会議

(8) 文中の下線部(g)について、このサミットの地元になる1市3町は、この地域のJA(農協)と協力して次のような計画をたてています。〈A〉に適する語句を答えなさい。

サミットの地元になる1市3町とJAは、〈A〉を使って、特産のジャガイモの冷蔵貯蔵を行う計画を立てています。この計画は〈A〉を資源として利用するもので、冬の間蓄えた〈A〉の冷気によって貯蔵庫の温度を常に4℃にコントロールし、これによってジャガイモのうまみを引き出そうというねらいもあります。〈A〉は7~8月までもつように貯蔵されるため、省エネルギーにも大いに役立つ計画です。なお、〈A〉を農産物の冷蔵貯蔵に利用しうまみを引き出す技術は、北空知の沼田町などが米の貯蔵で成功し、平成8年から実用化されています。

(9) 次の文アーエのうちから、本文の趣旨に合致するものを1つ選び、記号で答えなさい。

ア フードマイレージは削減した温室効果ガスの量を示すもので、温室効果ガス削減を推進している日本の政府は、飛行機のマイレージのように景品と交換できる特典を設けています。

イ フードマイレージは排出した温室効果ガスの量を示したもので、温室効果ガス削減を推進している日本の政府は、一定以上に貯まったフードマイレージに罰則を設けています。

ウ フードマイレージを貯めることは環境に負荷をかけることになり、なるべくフードマイレージの小さな食品を買って食べることが温室効果ガスの削減につながります。

エ フードマイレージには食品の品質やおいしさといった数値に表せない要素が含まれるので、フードマイレージが小さいからといって温室効果ガスの排出量も小さいとはいえません。

2 太郎君は夏休みにお父さんと札幌から日高山脈を越えて帯広の近くにある新得町へ出かけました。その時の会話を読んで、あとの問いに答えなさい。

父：太郎、札幌から新得町まで4時間ぐらいかかったね。新得町はそばが名物なんだよ。このあたりはジャガイモや豆類の栽培と(a)酪農、それに木材工業も盛んな所だよ。

太郎：そうなんだ。でも僕は、そばよりうどんの方が好きだな。お父さんは、どちらが好き？

父：そうだな、お父さんはそばの方が好きだな。(b)北海道は日本一そばの生産量が多いんだよ。太郎はうどんでは有名なところをどこか知っているかい？

太郎：知ってるよ。確か香川県の「(あ)うどん」が有名だよ。

父：よく知ってるね。このあたりは十勝平野だけど、香川県の「(あ)うどん」は、(あ)平野でとれる小麦粉を使っているんだよ。

太郎：(あ)平野では、農業をするためにため池がたくさん作られている、と社会の授業で習ったよ。

父：そうだね。(c)満濃池が有名だね。瀬戸内地方は雨が少なくてため池を作るんだね。そうそう、新得町は十勝川の上流にあるのは知ってるかな。この十勝川の下流にある(d)十勝平野は、全国有数の畑作地帯なんだよ。札幌から来る途中で日勝峠で、雄大な十勝平野を見たよね。この夏休みは山登りをして雄大な北海道の景色を見てみようか。

太郎：それはいいね。ところでお父さん、さっきの(あ)平野のある四国では、何という山が最高峰か知っている？

父：それは知らないなあ。九州の最高峰は(e)屋久島の宮之浦岳だけどね…。

太郎：僕は知ってるよ。四国の最高峰は石鎚山だよ。山頂に神社があるんだって。

父：それじゃ、来年は四国へ行って石鎚山に登ろうか。

太郎：本当？ 来年は四国に連れて行ってくれるの！僕は前から(f)「しまなみ海道」を通ってみたかったんだよ。

父：お父さんは、四国だったら日本一の清流といわれる(g)四万十川を見てみたいし、高知ではおいしいカツオも食べてみたいな。

太郎：じゃあ、来年は(h)四国一周の旅だね。

(1) 文中の下線部(a)について、北海道の酪農は第2次世界大戦後に活発になり、1956年には酪農実験集落(パイロットファーム)が建設され、1973年からは新酪農村の建設事業が行なわれるなど、厳しい自然とたたかいながら、酪農を中心とした農村づくりが進められてきました。別海町や中標津町などがあるこの地域は、火山灰土におおわれた台地で、年平均気温は6℃以下で冷害も受けやすい地域です。この台地の名を答えなさい。

(2) 文中の下線部(b)について、北海道が日本一のものに関する次の①～②の問いに答えなさい。
① 次のA～Dの表は、「米の生産量」・「野菜の生産額」・「漁獲量」・「10万人あたりのコンビニの店舗数」の都道府県別の順位を表しています。このうち「野菜の生産額」の順位を表してい

るものを、A～Dのうちから1つ選び、記号で答えなさい。

全国順位	A	B	C	D
1位	北海道	北海道	北海道	北海道
2位	東京都	宮城県	新潟県	千葉県
3位	宮城県	長崎県	秋田県	茨城県
4位	山梨県	青森県	福島県	愛知県
5位	茨城県	千葉県	山形県	熊本県

② 北海道にはサンマの水揚げ量が10年連続日本一の花咲港があります。花咲港がある根室地方は夏にしばしば濃霧が発生し、また特有の冷たい風が吹きやすいため、日照不足や低温から冷害がおこり農作物への影響がでる年もあります。この北海道から東北地方にかけて、夏に海から陸に吹く冷たい風を何といいますか。

(3) 文中の空らん(あ)に適する語句を漢字で答えなさい。

(4) 文中の下線部(c)について、満濃池は日本最大のため池で、奈良時代以前につくられ、平安時代のはじめに空海によって修理されたといわれています。空海は各地にため池や井戸を掘るなど、さまざまな社会事業を行ったと伝えられていますが、京都に庶民のための学校を作ったことも空海の社会事業の1つであるとされています。この学校の名を、次のア～エのうちから1つ選び、記号で答えなさい。

ア 足利学校 イ 緑芸種智院 ウ 松下村塾 エ 昌平坂学問所

(5) 文中の下線部(d)について、十勝平野は農業の経営規模が大きく、帯広市の農家一戸あたりの経営規模は29.9haとなっています。また、十勝平野では機械化が進んでおり、アズキ・大豆・じゃがいも・てんさいなどが大規模に生産され、日本一生産量をあげています。しかし、日本の農家全体でみると、農家一戸あたりの経営規模は十勝平野ほど大きくなく、また機械化も進んでいません。これに関し、日本の農家一戸あたりの耕地面積として適当なものを、次のア～エのうちから1つ選び、記号で答えなさい。なお、1haは10,000m²(100m×100m)です。

ア 1.6ha イ 5.6ha ウ 10.6ha エ 15.6ha

(6) 文中の下線部(e)について、屋久島は1993年に世界自然遺産に登録されました。世界自然遺産は全世界で177カ所の登録があり、日本国内では屋久島の他に白神山(1993年に登録)と北海道の知床(2005年に登録)の3カ所が登録されています。また、世界遺産には自然遺産の他に文化遺産もあります。これらの世界遺産の登録を決定する国際連合の機関として適当なものを、次のア～エのうちから1つ選び、記号で答えなさい。

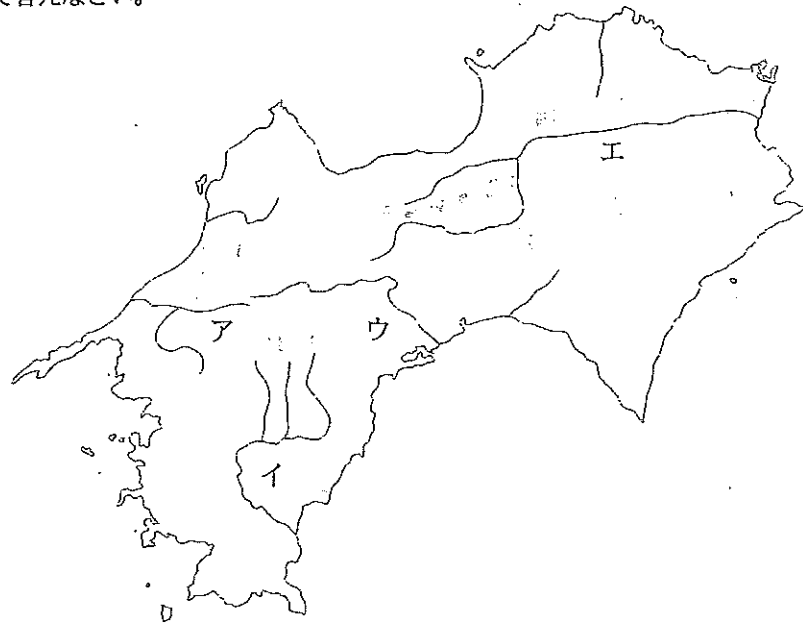
ア UNICEF イ UNESCO ウ WHO エ WTO

問題は次のページに続きます。

(7) 文中の下線部(f)について、尾道大橋や^{くろしま}来島海峡大橋などがかかる「しまなみ海道」といわれる連絡橋は、世界文化遺産に登録されている厳島神社がある県と、みかんの生産量が日本一の県とを結ぶ橋です。この県の組み合わせとして正しいものを、次のア～エのうちから1つ選び、記号で答えなさい。

- ア 香川県と兵庫県 イ 香川県と岡山県
ウ 愛媛県と岡山県 エ 愛媛県と広島県

(8) 文中の下線部(g)について、四万十川は次の地図中のどの川ですか。地図中のア～エから1つ選び、記号で答えなさい。



(9) 下線部(h)について、四国の面積は北海道のおよそ4分の1にあたる1.8万km²です。この面積を約200の世界の国々の中で見ると、150番目くらいの大きさになります。次のア～エの国のうち、四国と同じくらいの面積をもつ国を1つ選び、記号で答えなさい。

- ア 北アメリカ大陸のカナダ イ アフリカ大陸のスーダン
ウ 西アジア(中東)のクウェート エ 南アメリカ大陸のブラジル

3 次の文を読んで、あとの問いに答えなさい。

源義経といえば、日本史上では大変有名な人物です。このやや悲劇的な人物については、じつにさまざまな話や伝説が残されています。そのなかでもよく知られているのは、源義経は1189年に(a)東北地方で死んだのではなく、中国大陸に渡って(b)チンギス・ハンになった、あるいは蝦夷地(現在の北海道)に渡った、という話でしょう。この話はあくまでも伝説なのですが、いろいろ調べてみると、なかなか興味深いことがわかってきます。

源義経がじつは生きのびていたという話は、はやくも(c)室町時代にあらわれます。そして(d)江戸時代になると、さまざまな(e)歴史書に義経伝説が書きとめられるようになります。それらの内容はさまざまですが、(f)中国の清朝の皇帝は義経の子孫であるという話など、かなり具体的なものもあります。こうした義経伝説にはもちろん根拠はありませんが、当時のひとびとのあいだで義経人気が非常に高かったことをうかがわせます。

有名な義経=チンギス・ハン説は、(g)明治時代以降に少しずつ具体的な形を取るようになります。1924(大正13)年には『成吉思汗は源義経なり』という本が刊行され、義経=チンギス・ハン説は多くのひとびとに知られるようになりました。当時の(h)日本は中国大陸への進出を強めていた時期で、日本の英雄である源義経がかつて中国大陸を支配したチンギス・ハンと同一人物であるという話は、見知らぬ大陸へ向かうひとびとの心をつかんでいったようです。

では次に、源義経が蝦夷地に渡った話をみてみましょう。この話が歴史書に書かれるようになった江戸時代は、(i)松前藩とアイヌの接触が強まった時期でした。これらの話のなかには、1669年に松前藩に対して反乱をおこしたアイヌの首長シャクシャインを義経の子孫とするものや、アイヌの神を義経と同一人物とするものなどがあります。江戸時代をつうじて蝦夷地は松前藩・幕府の支配下におかれていくわけですが、この話が成立した背景には、この時代の蝦夷地への関心の高まりがあったようです。

このように、義経=チンギス・ハン説や義経が蝦夷地に渡ったという話は、もともとは(j)ひとびとの好奇心や義経人気のなかから生まれたものでしたが、それがここまで有名な伝説となっていたことには、当時の日本の状況が大きく関係していたと考えられます。これらの伝説の内容は歴史的真実とはかけはなれたものですが、それらが成立してきた背景にはさまざまな歴史を読み取ることができるのです。

(1) 文中の下線部(a)について、古代の東北地方より北に住むひとびとは「^{えみし}蝦夷」と呼ばれ、天皇を中心とする中央の政府はかれらに従わせるために大きな力をそそぎました。とくに、平安時代のはじめの天皇は、坂上田村麻呂を征夷大將軍に任命して大規模な軍勢を東北地方に送り、多くの蝦夷を服従させました。この天皇の名を漢字で答えなさい。

(2) 文中の下線部(b)について、チンギス・ハンの築いたモンゴル帝国は、ユーラシア大陸の東西に

またがる広大な地域を支配する大帝国になりました。そして、チンギス・ハンの孫のときに、支配地域をさらに拡大しようとする大軍が日本にも派遣され、九州北部を襲いました。これを日本では元寇とよびます。この大軍を派遣した人物は、中国において元という王朝をひらいた人物でもあります。この人物の名を答えなさい。

(3) 文中の下線部(c)について、室町時代には金閣などの華やかな建築が建てられる一方で、現在にまでいたるような日本の芸能文化が花開いた時代でもありました。次の文ア～エのうち、室町時代の芸能文化として適当でないものを1つ選び、記号で答えなさい。

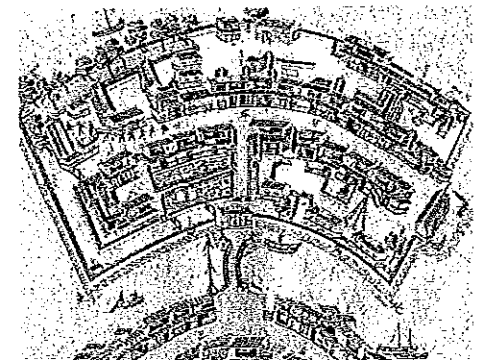
- ア 観阿弥・世阿弥の親子が、田楽などを取り入れて能を芸術として完成させました。
- イ 和歌が貴族のたしなみとなり、紀貫之を中心にして『古今和歌集』が編集されました。
- ウ 池坊専慶によって花道が大成して、花が床の間などに飾られるようになりました。
- エ 禅の精神を取り入れた村田珠光が、簡素なわび茶をはじめました。

(4) 文中の下線部(d)について、江戸時代の工藤平助という人物は、『赤蝦夷風説考』という本を出し、そのなかで、ロシア人が蝦夷地(北海道)に接近していることや、蝦夷地を開拓すべきことを主張しました。当時の老中はこの本の意見を受け、実際に蝦夷地調査を実施しましたが、役人のあいだに賄賂が多用されたことなどがひとびとの不満をかい、また浅間山の大噴火による被害や大飢饉もあって社会が不安定になり、この老中は政治的な力を失いました。この老中の名を答えなさい。

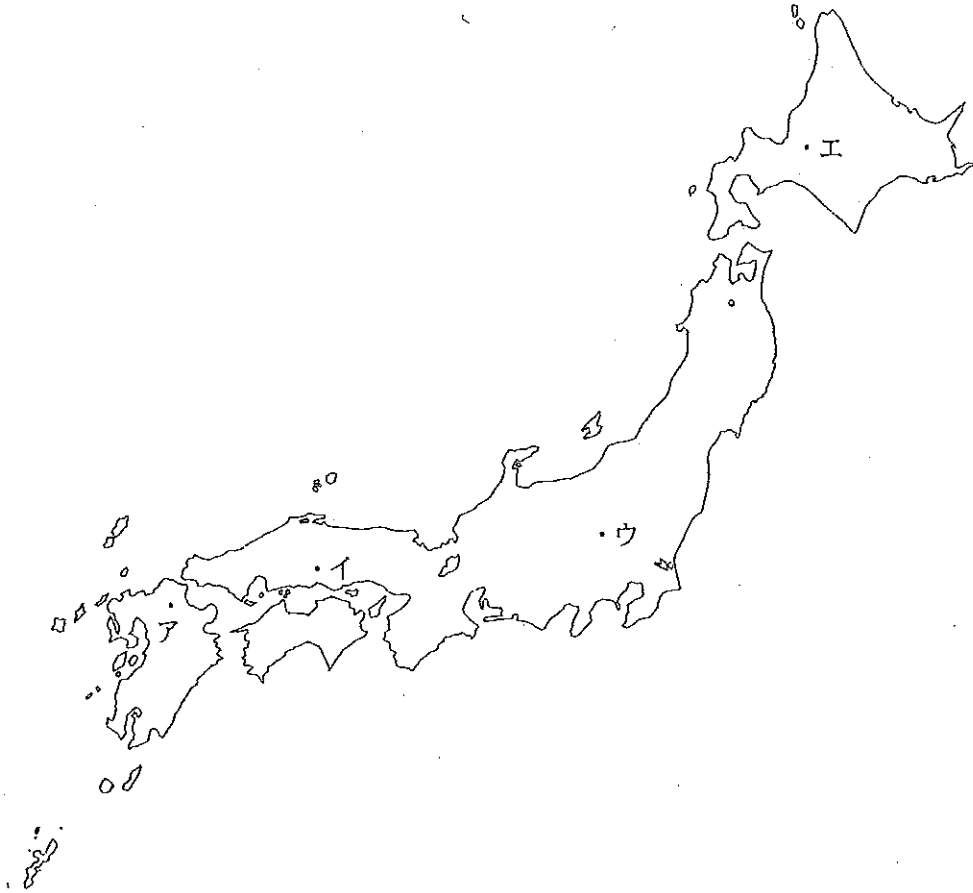
(5) 文中の下線部(e)について、国家による正式な歴史書を正史といいます。奈良時代には最初の正史である『日本書紀』が成立し、以後、平安時代までに六国史と呼ばれる6つの正史が書かれました。次の文は二番目に書かれた『続日本紀』の一部で、奈良時代に定められた土地に関する法を記した部分です。この法の名を答えなさい。

新たに土地を開墾した場合には、本人・子・孫の三代のあいだ、その土地の私有を認める。

(6) 文中の下線部(f)について、中国の清朝は、鎖国時代の江戸幕府と長崎で貿易を行いました。この貿易のために日本に来た清朝の商人らが居住した施設を唐人屋敷と呼びました。同じく長崎では、別の国とも貿易が行われ、幕府はその国の商人らを右の図のような人工の島に居住させました。この国の名と、図の人工の島の名を答えなさい。



(7) 文中の下線部(g)について、明治政府は「富国強兵」のためにヨーロッパやアメリカにならった新しい産業をおこす政策をとり、いくつもの工場を建設しました。そういった工場の中で、1872年に開設された富岡製糸場の場所を、次の地図中のア～エのうちから1つ選び、記号で答えなさい。



ついて、次のア～エの文のうちから、誤りを含むものを1つ選び、記号で答えなさい。

- ア アイヌは狩猟・採集を行う民族で、熊に対する信仰などの独自の文化や習慣を持っています。
- イ 松前藩は商人にアイヌとの交易を行わせ、北方の毛皮や鮭・昆布などの海産物を手に入れていました。
- ウ 幕府によって派遣された近藤重蔵は千島を探検し、択捉島に「大日本恵登呂府」の柱を立てました。
- エ 樺太が島か半島かということはながらく不明でしたが、伊能忠敬が樺太を探検し、これが島であることを確認しました。

(10) 文中の下線部(j)について、ひとびとの好奇心というのは、しばしばさまざまな伝説や物語を生みます。戦国時代に甲斐国(現在の山梨県)を中心とする地域を支配したある戦国大名の家臣であった山本勘介という人物も、物語などにおいては非常に有名だったのですが、じつは近年まで本当にいたのかどうかよくわからない人物でした。この戦国大名の名を漢字で答えなさい。

(8) 文中の下線部(h)について、日本の中国大陸進出が強まるなか、中国の北京郊外で起こった盧溝橋事件によって日中の全面戦争がはじまり、日本国内では総力戦体制がしかれていきました。次の出来事ア～エのうちから、日中戦争の開始以前に起こったものを1つ選び、記号で答えなさい。

- ア 世界恐慌
- イ 太平洋戦争
- ウ 広島への原爆投下
- エ ポツダム宣言の受諾

(9) 文中の下線部(i)について、アイヌは北海道の先住民でしたが、江戸時代は松前藩の支配下におかれました。また、のちには江戸幕府が蝦夷地に強い関心を示すようになり、何度かの調査を行い、蝦夷地を直接に支配するようになりました。松前藩のアイヌ支配と江戸幕府の蝦夷地調査に

4 次の文を読んで、あとの問いに答えなさい。

21世紀の現在、私たちの生活の中には情報があふれ、情報化社会といわれています。毎日、日本国内の出来事はもちろんのこと、世界中の政治や経済、スポーツなどのニュースが報道されています。20世紀は、新聞・雑誌・ラジオ・テレビ・映画などのマスメディアが急速に発達しました。この中でも (a)新聞の発行は早く、(b)明治時代の1870年代から東京を中心に毎朝出される日刊新聞が創刊されました。新聞は、その後1880年代から1890年代になると、当時の政治の問題について賛成や反対を主張する評論中心の「大新聞」も創刊され、政治の考え方や思想を国民に広めるのに大きな役割を果たしました。雑誌は1920年代に週刊誌が発行され、また(c)ラジオ放送が同じころに東京・大阪・名古屋で開始されました。(d)映画は、(e)大正時代にはまだ音声^{おおしんぶん}がなかったため(あ)写真と呼ばれましたが、1930年代になって画面と音が一体になった有声映画が始まりました。

これらのマスメディアの中で、現在の私たちの生活の中で大きな情報源になっているのはテレビでしょう。(f)テレビ放送は1950年代に始まり、1960年代にはほとんどの家庭に普及し、私たちの生活のあり方を変えた、とまでいわれています。そして(g)1990年代に入ってからインターネットが普及し、情報を収集したり交換したりするのに幅広く利用されるようになっていきます。


(1) 文中の空らん(あ)にあてはまる語句を漢字2字で答えなさい。

(2) 文中の下線部(a)について、日本での新聞の起源は、江戸時代の「よみうり」にあるといわれます。次の図は、幕末の京都で起きた戦乱を伝える「よみうり」です。江戸時代には、このようにひとびとが興味をひく事件や出来事を木版で印刷したものが、市中で売り歩かれました。このような印刷物を何と呼びますか。「よみうり」の他の名を答えなさい。



(3) 文中の下線部(b)について、次の①～②の問いに答えなさい。

① 明治時代の初期には「錦絵新聞」といわれるものがありましたが、「錦絵」とは江戸時代に「浮世絵」と呼ばれていた絵のうち、多色刷りの版画をいいました。次の「錦絵」の作者の名と作品名の組み合わせとして正しいものを、下のア～エのうちから1つ選び、記号で答えなさい。



ア 葛飾北斎の「東海道五十三次」 イ 歌川(安藤)広重の「東海道五十三次」
ウ 葛飾北斎の「富嶽三十六景」 エ 歌川(安藤)広重の「富嶽三十六景」

② 明治時代に始まった生活や習慣として適当なものを、次の文ア～エのうちから1つ選び、記号で答えなさい。

ア 伊勢神宮や四国の寺社への参拝に出かける旅行が流行するようになりました。
イ 都市では、歌舞伎や人形浄瑠璃などの芝居や相撲を見て楽しむようになりました。
ウ 洋服や肉食が広まり、開国直後に認められたキリスト教が普及するようになりました。
エ 都市には鉄道が通じ、電灯やガスの事業も開始されました。

(4) 文中の下線部(c)について、1926(大正15)年に政府の指令によって日本放送協会(NHK)が発足し、以後、第2次世界大戦後の1951(昭和26)年に民間放送が誕生するまで、日本の唯一の放送事業として活動を続けました。日本放送協会(NHK)は、設立当初から受信料を財源として運営され、1940(昭和15)年にはラジオの受信契約数は500万を突破しました。このような当時のラジオ放送で、放送されなかったものを、次のア～エのうちから1つ選び、記号で答えなさい。

ア ラジオ体操 イ 東京六大学野球の実況放送
ウ オリンピックの実況中継 エ コマーシャル

(5) 文中の下線部(d)について、映画は、1920年代のアメリカ合衆国で多くのひとびとが楽しむ娯

楽になっていきますが、その多くは「映画の都」といわれたハリウッドで製作されました。ハリウッドは、現在のアメリカ合衆国で人口が2番目に多い大都市の郊外にあります。この都市は、太平洋に面し、温暖で雨の少ない気候が映画撮影に最適であったため、映画産業が発達したといわれています。このハリウッドのある都市の名を答えなさい。

(6) 文中の下線部(e)について、この時代は「大正デモクラシー」とよばれる民主主義や政党政治がすすみ、それを支える都市のひとつによって大衆文化がつけられました。この時代の様子を表した文として適当でないものを、次の文ア～エのうちから1つ選び、記号で答えなさい。

- ア 福沢諭吉が「時事新報」という新聞を発行し、大正デモクラシーの先頭に立って指導しました。
- イ 多くのひとびとが求めている普通選挙が実現し、25歳以上のすべての男性に選挙権が認められました。
- ウ 都心ではエレベーターの付いたビルディングが建ち、多くの百貨店(デパート)が開店しました。
- エ 都市での交通の主役が自動車になり、市内ならどこまで行っても1円均一というタクシーが登場しました。

(7) 文中の下線部(f)について、次の①～②の問いに答えなさい。

① 今から50年ほど前の1950年代後半に日本は高度経済成長をむかえ、多くの国民は、3つの高価な家庭電気製品を新しい生活の象徴としてあこがれ、歴代天皇に伝えられた宝物になぞらえて「三種の神器」と呼びました。3つの家庭電気製品のうちの2つは、1953年に放送が始まったばかりのテレビ(白黒テレビ)と電気洗濯機です。残りの1つは何ですか。次のア～エのうちから1つ選び、記号で答えなさい。

- ア 電気冷蔵庫
- イ 電子レンジ
- ウ 自動車
- エ クーラー(エアコン)

② テレビ放送は、1960年代にカラー化という技術革新があり、その後、衛星放送などによる多チャンネル化などの変化がありました。そして現在、テレビ放送は2011年までに新しい放送に完全に移行し、高品質な映像や音声などを受信できるようになります。この放送は何ですか。次のア～エのうちから1つ選び、記号で答えなさい。

- ア ケーブルテレビ放送
- イ 地上波デジタル放送
- ウ テレビ電話放送
- エ 光通信放送

(8) 文中の下線部(g)について、この前年の1989年1月に年号が「昭和」から「平成」へ改められ

ました。昭和の時代に起きた出来事を、次の文ア～エから1つ選び、記号で答えなさい。

- ア 日本で26年ぶりとなる冬季オリンピックが長野で行われました。
- イ 国鉄(日本国有鉄道)が分割・民営化され各地方のJRとなりました。
- ウ 税制改革によって消費税が導入され、商品に3%の税が課されるようになりました。
- エ 阪神・淡路大震災が起きて6000人を超える死者が出ました。

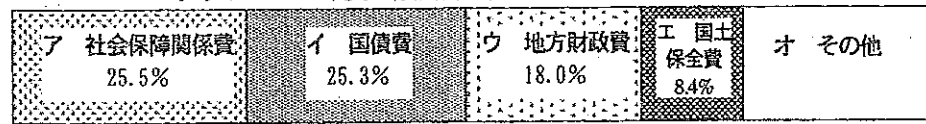
5 次の文を読んで、あとの問いに答えなさい。

毎年、年が明けて1月になると国会が開かれます。この国会は、必要に応じて開かれるものではなく、毎年定例で開かれるもので、(あ)国会と呼ばれるものです。(a)国会では、実にさまざまな案件が話し合われますが、この(あ)国会で話し合われるもののなかでもっとも重要なものは予算です。ここでいう予算とは、国が一年間でどれくらいの収入をどのようにして得るのか、またどのようなことにどれくらい用いるのかという、国の経費の見積りのことです。

予算の案を作るのは(い)省の仕事です。(い)省が作った予算案を**(b)内閣**が決定して国会に提出します。国会がそれを議論して議決したうえで、実行にうつされます。そのため、国会での話し合いがうまくいかず、予算が決まらなると、国の政治はどても困ったことになります。

(c)次のグラフは、ある年の支出についての予算ですが、これを見ると、さまざまな政治の状況がわかります。国の収入でもっとも大きいのは税収ですが、それだけでは足りず、不足分は国債で補っています。支出を見ると、そのおよそ1/4がこの国債の返済にあてられていることに改めて驚きます。

グラフ 2007年度一般会計予算(支出) (82兆9,088億円)



このような国の収入や支出に関する問題を財政問題といいます。このグラフを見ると、日本の財政はあまり健全とはいえない状態です。

現在、日本の社会は(d)人口構成の急激な変化、情報化の進展、(e)グローバル化の進行、環境問題など、さまざまな変化にさらされています。これらの問題に対応するためにも、(f)国の基盤としての財政を健全にすることが政府に求められています。

(1) 文中の空らん(あ)～(い)に適する語句を答えなさい。

(2) 文中の下線部(a)について正しく述べている文を、次の文ア～オのうちから2つ選び、記号で答えなさい。

- ア 国会では、外交関係について話し合い、外国と条約を結ぶことを承認します。
- イ 国会では、内閣の定める政令や、地方自治体の定める条例についても話し合って決定します。
- ウ 国会では、天皇が行う行為について話し合い、天皇への助言と承認を与えます。
- エ 国会では、国政に関するすべてのことについて話し合い、ときには証人や参考人を呼んで事情を聞いたりします。
- オ 国会では、憲法の改正についても話し合い、最終的に両議院議員の総数の2/3以上が賛成すると憲法は改正されます。

(3) 文中の下線部(b)について、現在の内閣を構成する役職として適当なものを、次のア～キのうちから2つ選び、記号で答えなさい。

- ア 文部科学大臣 イ 国務長官 ウ 最高裁判所長官 エ 幹事長
- オ 外務事務次官 カ 官房長官 キ 衆議院議長

(4) 文中の下線部(c)について、次の①～②の問いに答えなさい。

- ① 昨年来、さまざまに問題になっている年金の国の支出分は、上の支出についてのグラフの項目ア～オのどれに含まれますか。1つ選び、記号で答えなさい。
- ② 年金問題を担当する省の名前を答えなさい。

(5) 文中の下線部(d)について、日本の人口構成に関する文としてもっとも適切なものを、次の文ア～エのうちから1つ選び、記号で答えなさい。

- ア 人口全体に占める年齢の低い人の比率が高く、人口はこれから増加していく傾向にあります。
- イ 高校生や大学生にあたる年代の人口の比率が高く、これから働き手の人口が急増する傾向にあります。
- ウ 各年代の人口に大きな差がなく、人口は大きく増えたり減ったりせずに推移しています。
- エ 年齢の低い人が高齢者に比べて少なく、人口はこれから減る傾向にあります。

(6) 文中の下線部(e)について、経済のグローバル化によって、日本にも外国の資本が大量に流入してくるようになりました。これが外国為替相場(各国の通貨の交換比率)を変動させる原因にもなっています。日本の円とアメリカ合衆国のドルの交換比率が「1ドル=115円」から「1ドル=110円」になったとき、この変動をなんと言いますか。漢字2字で答えなさい。

(7) 文中の下線部(f)について、国や地方自治体が行っている財政に関する文として適当でないものを、次の文ア～エのうちから1つ選び、記号で答えなさい。

- ア 夕張市は多額の負債(借金)を返すことができず、財政再建団体となりました。
- イ 北海道は財政健全化のために、職員の賃金(給料)の減額を行いました。
- ウ 国は財政再建に取り組むために、国家公務員の大幅な増員を決定しました。
- エ 国は財政健全化のために、いくつかの独立行政法人の廃止や民営化を進めています。