

平成 19 年度

北嶺中学校入学試験問題

社 会

(注意)

- 1 問題用紙が配られても、「はじめ」の合図があるまでは、中を開かないでください。
- 2 問題は全部で **15** ページで、解答用紙は 1 枚です。「はじめ」の合図があったら、まず、ページ数を確認してからはじめてください。もし、ページがぬけていたり、印刷されていなかったりする場合は、静かに手をあげて先生に伝えてください。
- 3 答えはすべて解答用紙の指定された解答らんを書いてください。
- 4 字数が指定されている場合には、特に指示のないかぎり句読点も数えてください。
- 5 質問があったり、用事ができた場合には、だまって手をあげて先生に伝えてください。ただし、問題の考え方や、言葉の意味・読み方などについての質問には答えられませんので注意して下さい。
- 6 「おわり」の合図で鉛筆をおき、先生が解答用紙を集めおわるまで、静かに待っていてください。

1 つぎの新千歳空港に関する文を読んで、後の問いに答えなさい。

(a)わたしたちの住む北海道は観光地としても注目されることが多くなっていますが、道外から観光や仕事で北海道に入るには、現在のところ空路を利用するのがもっとも便利のため、新千歳空港が北海道の玄関口になっています。

千歳空港の歴史は、(b)今からおよそ80年前の1926年に、周辺の村民の労力奉仕により、約10ヘクタールを整地造成したことに始まります。その後、海軍航空隊の使用や、第二次世界大戦後のアメリカ軍の占領を経て、民間と自衛隊が共用する飛行場となりました。1988年には現在の位置に3000mの滑走路を2本もつ新空港が開港され、(c)日本で初めて24時間の離発着が可能な空港となりました。現在の年間乗降客数は1,800万人を超えています。

新千歳空港は、国内線では道内の釧路、(d)中標津、(e)女満別、(f)稚内の他、本州以南の20以上の都市との間に定期路線があり、北海道と全国を結びつけています。なかでも新千歳空港と〈A〉国際空港を結ぶ路線は日本国内でもっとも乗降客数が多く、1978年には〈B〉とボストンを結ぶ路線の年間乗降客数を抜いて、世界一利用客の多い路線になりました。

国際線では、韓国や台湾、香港、〈C〉などの国や地域と定期便で結ばれていますが、年間乗降客数は約62万人で、全体の数%にすぎません。しかし、2009年には国際線の新ターミナルが完成の予定で、今後は海外からの観光客の増加が期待されます。(g)航空貨物の取扱量も現在までは多くありませんが、新千歳空港がアジア諸国から北アメリカへの航空路に位置する地理的な利点をいかし、今後の航空貨物の増加も期待されています。

(1) 新千歳空港は千歳市と〈X〉市にまたがる地域にあります。〈X〉市は明治時代から製紙工業がさかんですが、これに加えて第二次世界大戦後は、石油や自動車などの総合的な工業地域になってきました。これに関して、つぎの①、②の問いに答えなさい。

① 〈X〉市の名を答えなさい。

② 千歳市と〈X〉市の農業の様子について述べた文として正しいものを、つぎのア～エのうちから一つ選び、記号で答えなさい。


ア 千歳市は乳牛や鶏の飼育がさかんで、人口の集中する札幌への近さをいかして、新鮮な牛乳や卵を出荷しています。

イ 千歳市は北海道を代表する畑作地帯で、大規模で機械化された農業によって主にジャガイモやテンサイが栽培されています。

ウ 〈X〉市は北海道の南の海に面した温暖な気候であるため、ビニールハウスを利用した野菜の促成栽培がさかんで、なすやピーマンの全国的な産地になっています。

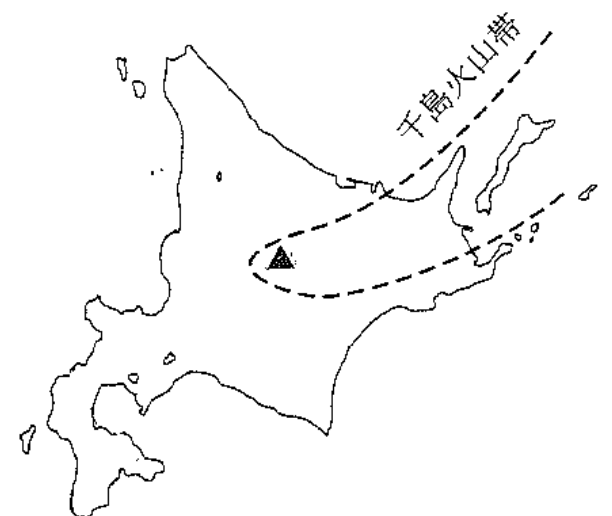
エ 〈X〉市は周囲を山に囲まれた盆地で、昼と夜の気温差が大きい気候を利用して、モモやブドウなどの果物の栽培がさかんです。

(2) 文中の下線部(a)について、北海道には雄大な景観や自然の中での体験など、人をひきつける魅力がたくさんあります。このような魅力を「観光資源」とよびますが、つぎの図A～Dは全国各地の観光資源を示したものです。これらについて説明した文として適切でないものを、下のア～エのうちから一つ選び、記号で答えなさい。



- ア Aは青森県で毎年8月上旬に行われる「ねぶた祭り」です。武者や歌舞伎の場面を描いた巨大な灯籠とうろうを引いて町中をねり歩く祭りに、多くの観光客が訪れます。
- イ Bは岐阜県の北西部の山中にある「白川郷」です。茅葺きの大きな屋根をもつ合掌造がっしょうづくりの集落が世界文化遺産として登録されています。
- ウ Cは山梨県と長野県の県境にある「富士山」です。日本でもっとも高い山であり、また容姿が美しいため、古くから日本の象徴として親しまれ、海外にもよく知られています。
- エ Dは奈良県にある「法隆寺」です。世界文化遺産に登録されている金堂や五重塔などは世界最古の木造建築としても有名で、国内ばかりでなく外国からも多くの観光客が訪れます。

(3) 文中の下線部(b)について、1926年には右の地図に ▲ で示した火山が大爆発し、発生した泥流によって美瑛や上富良野が大被害を受け、300人以上の死傷者を出しました。この火山は現在でも活動を続ける活火山です。この火山の名を、つぎのア～エのうちから一つ選び、記号で答えなさい。



- ア 昭和新山 イ 有珠山 ウ 十勝岳 エ 羊蹄山

(4) 文中の下線部(c)について、新千歳空港は24時間の離発着が可能な空港ではありますが、現状では十分に活用されていません。その理由として考えられることを簡単に述べなさい。

(5) 文中の下線部(d)について、中標津は北海道の中でも酪農がさかんなところですが、北海道の酪農の説明として誤っているものを、つぎのア～エのうちから一つ選び、記号で答えなさい。

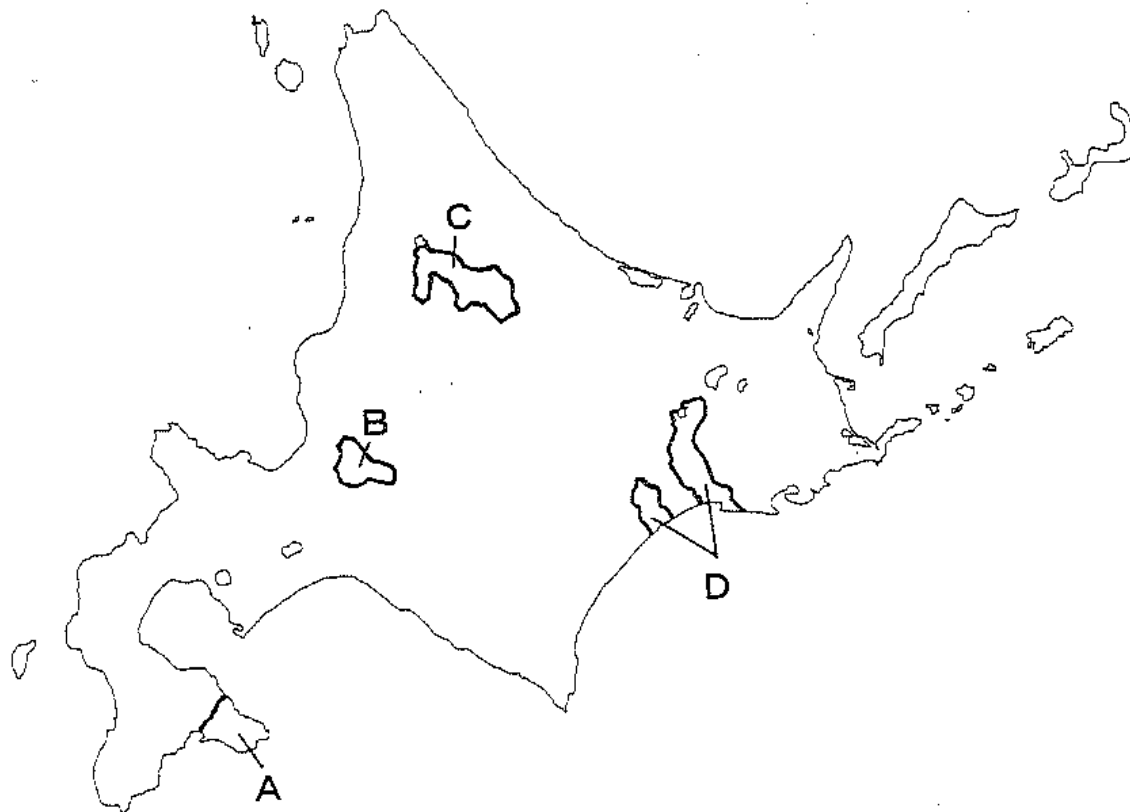
ア 北海道の酪農家は、耕地の面積や家畜の飼育頭数が全国的にみて非常に大きいです。

イ 第二次世界大戦後、根釧台地にパイロットファームや新酪農村がつくられ、大規模な酪農がめざされてきました。

ウ 最近では食生活が大きく変化して、牛乳の生産が消費に追いつかないほど乳製品の消費が拡大し、牛乳の価格が年々上昇しています。

エ 北海道は首都圏などの大消費地に遠いため、生産された牛乳の一部は輸送や保存がしやすいチーズやバターに加工して出荷されます。

(6) 文中の下線部(e)について、女満別町は今年の3月末に隣接する東藻琴村と合併して大空町となりました。北海道では、この「平成の市町村合併」によって、21の新しい市町村が誕生しましたが、つぎの地図中のA～Dは、その一部を示しています。これに関して述べたア～エの文のうち、誤っているものを一つ選び、記号で答えなさい。



ア Aは函館市で、隣接する5つの市町村が合併しました。

イ Bは石狩市で、隣接する3つの市町村が合併しました。

ウ Cは士別市で、隣接する2つの市町村が合併しました。

エ Dは釧路市で、3つの市町村が合併しましたが、旧音別町の地域が飛び地になりました。

(7) 文中の下線部(f)について、つぎの文の空らんに適する語句を答えなさい。

北海道の最北端にある稚内市は、道北の中心都市で宗谷支庁がおかれています。市の名前は (あ) 語の「ヤムワッカナイ」(「冷たい水の出る沢」の意味) に由来すると言われています。稚内港からは利尻島や礼文島にフェリーが運行し、また近年は国境を越えてロシア連邦との交流が盛んになり、宗谷海峡をへだてた (い) との間に定期船が就航しています。

(8) 文中の〈 A 〉〈 B 〉の2つの都市は、国際姉妹都市の関係を結び、友好関係を深めています。〈 A 〉〈 B 〉の都市の組み合わせとして正しいものを、つぎのア～エのうちから一つ選び、記号で答えなさい。

- ア A-名古屋 B-ロサンゼルス イ A-東京 B-ニューヨーク
ウ A-神戸 B-シアトル エ A-京都 B-パリ

(9) つぎの文は〈 C 〉の国の特徴を示したものです。〈 C 〉に適する国名を答えなさい。

この国は1つの大陸がそのまま1つの国になっていて、国土の面積は日本の20倍もあります。鉄鉱石や石炭などの地下資源が豊富で、以前はイギリスとの結びつきが強かったのですが、近年はアジアとの結びつきを強めています。

(10) 文中の下線部(g)について、この説明として適切なものを、つぎのア～オのうちから二つ選び、記号で答えなさい。

- ア 自動車や大型機械など、日本の主要な輸出品の多くが航空貨物として輸出されます。
イ 電子機器や精密機械など、軽くて小さいうえに価格の高いものの輸送に適しています。
ウ 魚や果物など、新鮮さが求められる食料品の輸送に適しています。
エ 石油や鉄鉱石など、日本の工業に不可欠な資源は主に航空貨物として輸入されます。
オ 衣類や繊維製品など、比較的安価な商品の大量輸送に適しています。

2 つぎの文を読んで、後の問いに答えなさい。

現在、世界の人口は増加の一途をたどり約65億人に達しようとしています。アフリカでは人口爆発が続き、食糧不足が深刻化しています。世界第1位の人口を抱える中国は13億人、第2位のインドは11億人と、人口の多さが深刻な問題となっています。

さて日本の人口はというと、総務省が発表した住民基本台帳に基づく昨年3月31日現在の人口動態によると、全国の人口は前年比3,505人減の1億2,705万5,025人で世界第(あ)位の多さです。しかし、1968年の調査以来、初めて減少に転じたことは注目されます。出生率が下がり老年人口が増える社会的な傾向が加速され、人口減少社会への突入をあらためて裏付けたことになりました。北海道の人口は(い)人で、前年と同じく全国で7番目に人口の多い都道府県でしたが、8年連続の人口減で、減少数と減少率とも1985年以降で最大となりました。

人口が増えた都府県は、埼玉県、千葉県、東京都、神奈川県、愛知県、滋賀県、大阪府、福岡県、沖縄県の9つで、増加数、増加率とも一番高かったのは(う)でした。

(1) 文中の空らん(あ)に適する数字を答えなさい。

(2) 文中の空らん(い)に適する数を、つぎのア～エのうちから一つ選び、記号で答えなさい。

ア 262万9970人 イ 362万9970人 ウ 462万9970人 エ 562万9970人

(3) 文中の空らん(う)に適する都府県名を答えなさい。

(4) 下線部の9つの都府県について、つぎの①～⑦の問いに答えなさい。

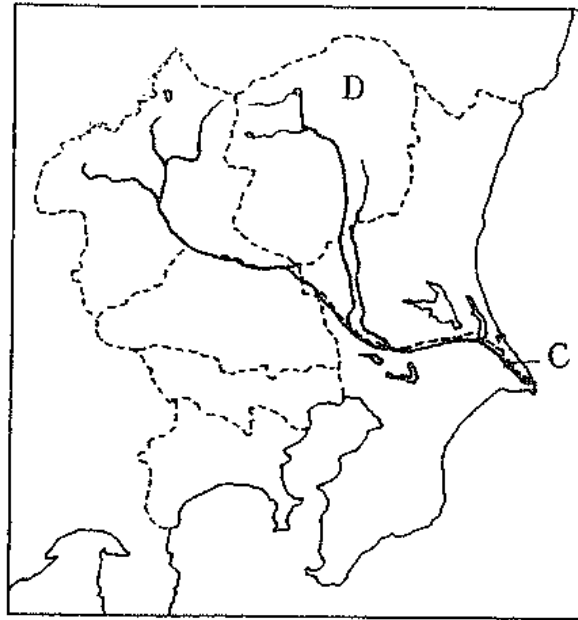
① 下線部の都府県のうち埼玉県から福岡県にいたる地帯には、全国の人口の約60%、工業出荷額の約70%が集中しています。この地帯を何とよぶか答えなさい。

② 下線部の都府県には政令指定都市が9つあり、このうち人口が100万人に満たない政令指定都市が2つあります。つぎの文は、この2つの都市を説明したものです。A、Bに適する都市の名をそれぞれ答えなさい。

A市…海岸部には広大な埋立地が造成され、製鉄所や火力発電所を中心に臨海コンビナートがつくられています。距離的に近い東京への通勤者も多く、東京のベッドタウンでもあります。

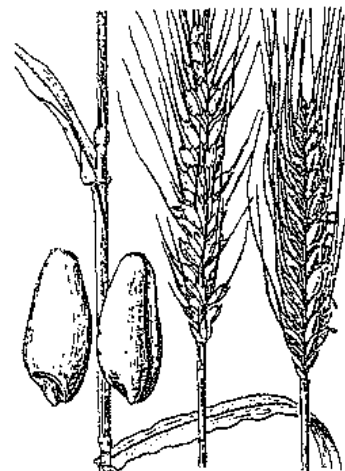
B市…もっとも新しい政令指定都市ですが、都市としての歴史は古く、室町時代には勘合貿易の中心として繁栄し、また豊臣秀吉の時代にはこの都市出身の千利休によって茶道が大成されました。郊外には仁徳天皇の墓と伝えられる大山古墳があります。

- ③ つぎの地図中の C の河川は関東地方の D の県の山地から流れはじめ、埼玉県や千葉県を流れる日本有数の河川です。C の河川名と D の県名を答えなさい。

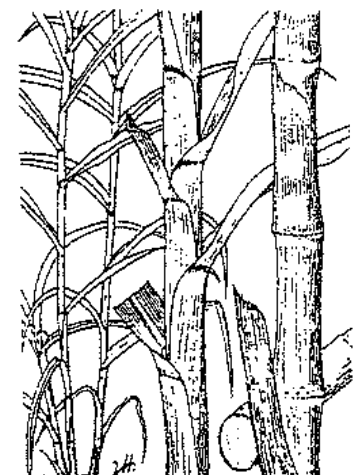


- ④ 東京都には私鉄のターミナル駅が数多くありますが、商業地としても発達し、ビジネスの中心にもなっている渋谷、池袋、新宿は何とよばれていますか。漢字3字で答えなさい。
- ⑤ 滋賀県には日本最大の湖である琵琶湖があります。この湖は、北海道の釧路湿原やウトナイ湖と同様に、水鳥の生息環境を保護する条約に登録されています。この条約の名を答えなさい。
- ⑥ 福岡県は、つぎの表に見られるようにある農作物が全国2位の生産をあげています。下の図はこの農作物を示しています。この農作物の名を答えなさい。

全国順位	生産量 (百 t)
1 北海道	5,575
2 福岡	467
3 群馬	383
4 埼玉	285
5 佐賀	267
全国生産量	8,559



- ⑦ 沖縄県は亜熱帯性の気候で、特色ある農業が行われています。右の図は沖縄県特産の農作物ですが、最近になってこの農作物から環境にやさしいエネルギーであるエタノールが生産され、ブラジルなどでは自動車の燃料としても実用化されていることが注目されています。この農作物の名を答えなさい。



3 つぎの文を読んで、後の問いに答えなさい。

古代日本において、「大王」にかわって「天皇」という称号が使われるようになったのは、7世紀後半の(a)天武天皇のときだったといわれています。また、この時代から日本の歴史をまとめる作業がはじめられ、奈良時代の8世紀前半には、天皇にまつわる神話や歴史をおさめた『(あ)』や『日本書紀』が完成しました。



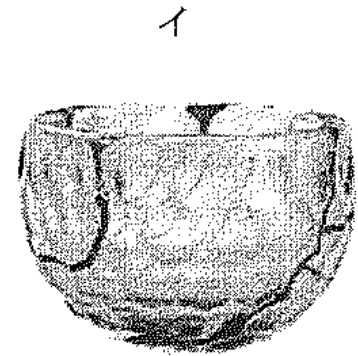
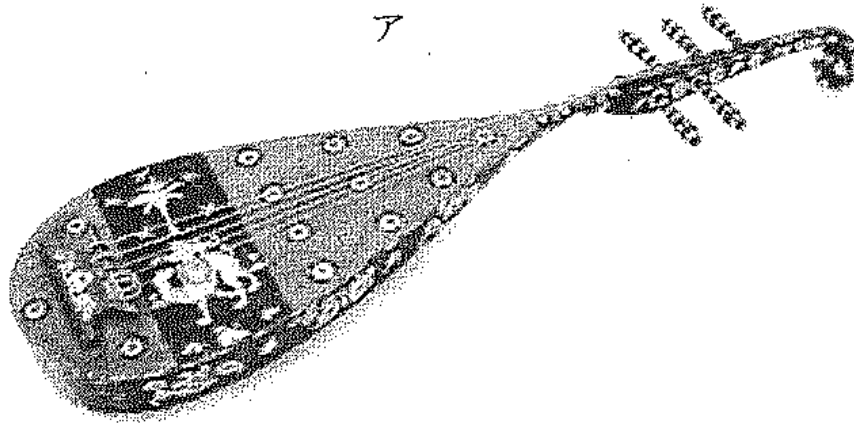
多くの天皇は男性でしたが、なかには(b)推古天皇のような女性天皇もいました。推古天皇は6世紀末に即位し、甥の聖徳太子を摂政としてさまざまな改革を行わせました。

その後、(c)奈良時代、(d)平安時代を経て、11世紀の白河天皇は位を堀川天皇にゆずり、みずからは上皇となって院政を開始しました。一方、(e)この時代は平氏・源氏といった武士の台頭の時代でもありました。その後、武士の時代となり、平氏を打倒した源氏によって(f)鎌倉幕府が開かれました。

天皇の権力を再び取り戻そうとしたのは、1334年に建武の新政を開始した(い)天皇でした。この天皇と(g)室町幕府を開いた足利尊氏の対立から、2人の天皇が並び立つ南北朝の動乱が引き起こされましたが、1392年には南北朝は合体しました。しかし、この動乱の後、天皇は再び権力を失い、(h)江戸幕府末期まで武士の時代が続きました。

- (1) 文中の下線部(a)の天武天皇は、672年の皇位継承争いで大友皇子に勝利して天皇となりました。この皇位継承争いを何といいますか。
- (2) 文中の空らん『(あ)』には、天地創造、日本の国生みなどの神話・伝承から推古天皇にいたるまでの歴史がおさめられています。空らん『(あ)』に適する書名を答えなさい。
- (3) 文中の下線部(b)の推古天皇は、のちに大化の改新で打倒された有力豪族の親族でした。この有力豪族は何氏ですか。

(4) 文中の下線部(c)の時代には国際色豊かな天平文化が栄え、現在も奈良の正倉院には西アジアから伝わった数々の工芸品がおさめられています。つぎのア～エのうちから、正倉院におさめられた工芸品として適切でないものを一つ選びなさい。



(5) 文中の下線部(d)の時代の後半に、4人の娘を天皇・皇太子の妃^{きさき}として摂関政治を行って権力を握った人物の名を答えなさい。

(6) 文中の下線部(e)について、このころ(10～12世紀)に起こった事件として誤っているものを、つぎのア～エのうちから一つ選び、記号で答えなさい。

- ア 源義朝が平清盛に敗れ、義朝の息子の頼朝は伊豆に流されました。
- イ 平将門が関東で反乱を起こし、「新皇」と称しました。
- ウ 東北地方の豪族の反乱を、坂上田村麻呂の率いる源氏が平定しました。
- エ 藤原純友が瀬戸内海において反乱を起こし、大宰府を攻撃しました。

(7) 文中の下線部(f)について、つぎの史料は、この時代の僧である慈円が書いた『愚管抄』の一部です。このなかで慈円は、1221年に当時の上皇が幕府に対して戦いを挑んだことを批判しています。この上皇の名と、戦い(乱)の名称を答えなさい。

(鎌倉幕府に対して、)あるいは上皇にこれを憎むような考えが生まれるとすれば、これで日本国の運命は終わりになってしまうであろうと思われて、悲しいことである。

(8) 文中の空らん (い) に適する天皇の名を答えなさい。

(9) 文中の下線部(g)の第3代将軍である足利義満は、「日本国王」として当時の中国と勘合貿易を行いました。この当時の中国は何とよばれていましたか。つぎのア～エのうちから一つ選び、記号で答えなさい。

ア 漢 イ 魏 ウ 唐 エ 明

(10) 文中の下線部(h)の時代には、開国や幕府の政策に対する反対運動として、天皇を中心とした新しい国家をつくろうとする運動が高まりました。つぎの図は、長州藩に開設された松下村塾を中心にこの運動をおしすすめ、安政の大獄で処刑された人物です。この人物の名を答えなさい。



4 つぎの文を読んで、後の問いに答えなさい。

昭和という年号は歴代でもっとも長く、64年も続きました。昭和元年は西暦でいうと1926年にあたり、今からおよそ81年前の12月25日から始まりました。また、最後の昭和の年であった64年は西暦1989年で、1月7日に終わりました。したがって、64年といっても実際には62年と14日間でした。

昭和時代は「激動の昭和」といわれるように、戦争・テロ・クーデター・恐慌・軍事政権・敗戦・外国軍による占領・(a)民主主義など、社会的なできごとがさまざまにありました。年を追ってみて見ましょう。昭和元年は7日間しかなかったので、昭和時代は実質的に翌2年(1927年)から始まります。この年には、恐慌とよぶ経済の急激な悪化と混乱がありました。この年の恐慌は、銀行が次々と休業や倒産したので、(あ)恐慌と名づけられ、その中で時の内閣も替わってしまいました。その後も不況や恐慌は続き、昭和5年(1930年)ごろは、都市には失業者があふれ、農村では食べるものがなくなり子供の売り買いも行われました。

このように社会が混乱していくと、軍の一部は直接行動を始めました。まず昭和6年(1931年)に中国にいた軍隊が本部の命令を無視して満州事変を起こし、(b)満州国を建国して事実上の日本の領土にしました。しかし、この行動を国際連盟は侵略であると判断し、日本は国際的に孤立していきます。この直後の昭和7年(1932年)には、若い軍人たちが、社会の混乱は政党による政治に原因があるとして、(c)内閣総理大臣を暗殺しました。この後には、(d)軍の強硬な考えや指導が政治にまで及びます。

いよいよ(e)昭和12年(1937年)には中国との全面戦争が始まりました。この戦争を当時は支那事変と呼んでいました。日本は中国を制圧して植民地にしてしまおうと考えましたが、中国政府の抗戦や中国の人々の抵抗が激しく、日本の軍部が考えていた短期の決着はできずに戦争は長期化しました。戦争の拡大につれて軍事費が増大し、(f)国民生活への制限も厳しくなっていました。一方、アメリカやイギリスは日本の中国全土への進出に反発し、中国政府に武器などの軍事物資を援助しました。そして昭和15年(1940年)に、日本は石油などの資源を求めて南方のインドシナ半島へ侵攻し、日中戦争はアジア太平洋戦争へと拡大していきます。その戦争も昭和20年(1945年)8月15日に(g)日本の敗戦によって終結を迎えました。9月2日には、日本は降伏文書に調印し、(h)全国的な占領が開始されて日本の戦後が始まります。

昭和の年号は、(i)この後40年以上も続きます。この続きは中学に入学してからの歴史の授業で勉強しましょう。

(1) 文中の下線部(a)について、現在の憲法は前文で「日本国民は、正当に選挙された国会における代表者を通じて行動し」と、選挙と国会の重要性を述べています。現在の国会議事堂の中には、伊藤博文・大隈重信・板垣退助の像があります。この3人の人物について述べた文X～Zについて、その正誤の組み合わせとして正しいものを、下のア～エのうちから一つ選び、記号で答えなさい。

X 伊藤博文は1889年に発布された日本国憲法の起草の中心となり、最初の内閣総理大臣となりました。

Y 大隈重信は最初の政党内閣の総理大臣をつとめ、また文化人としても著名で、『学問のすすめ』を著し、慶応義塾大学を創立した人物でもあります。

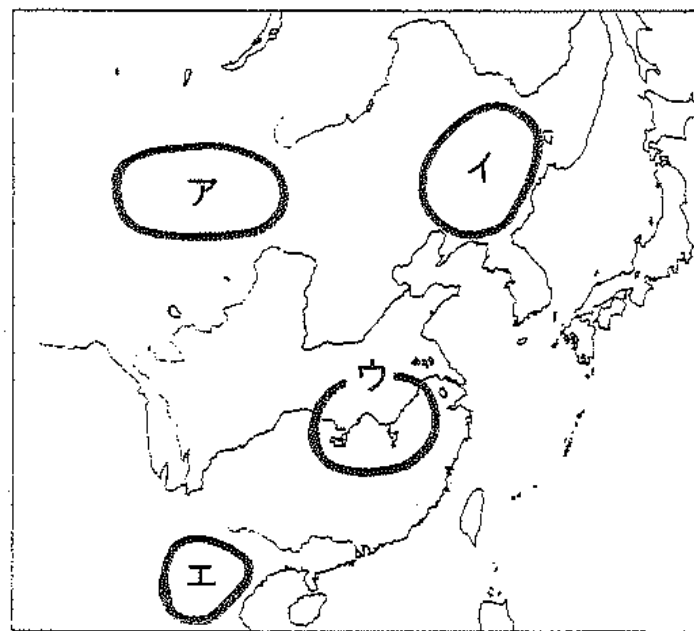
Z 板垣退助は国会の開設を求めて自由民権運動を起し、最初の政党である自由党の党首をつとめました。

- ア X-正 Y-誤 Z-正 イ X-誤 Y-誤 Z-正
 ウ X-誤 Y-正 Z-正 エ X-正 Y-誤 Z-誤

(2) 文中の空らん(あ)に適する語句をつぎのア～エのうちから一つ選び、記号で答えなさい。

- ア 戦後 イ 震災 ウ 金融 エ 世界

(3) 文中の下線部(b)について、満州国の位置を地図中のア～エのうちから一つ選び、記号で答えなさい。



(4) 文中の下線部(c)について、この時に暗殺された総理大臣は、最後まで「話せばわかる」といって言論による解決を試みようとしたと言われます。この内閣総理大臣の名を答えなさい。

(5) 文中の下線部(d)について、昭和11年(1936年)にも、若い軍人たちが実力によって軍部の政権をつくろうとして、首相官邸や警視庁などの政府の中心機関を襲撃する事件を起こしました。この事件を何といいますか。つぎのア～エのうちから一つ選び、記号で答えなさい。

- ア 2・26事件 イ 3・15事件 ウ 4・16事件 エ 5・15事件

(6) 文中の下線部(e)について、開戦の直接のきっかけは、「盧溝橋」とよばれる橋の付近で起きた軍隊の発砲事件でした。盧溝橋は古い時代につくられた大理石の美しい橋で、マルコ・ポーロが『東方見聞録』でヨーロッパに紹介したことで有名です。この橋はある都市の郊外にあります。その都市の名として正しいものを、つぎのア～エのうちから一つ選び、記号で答えなさい。

ア 北京 イ 上海 ウ 香港 エ 天津

(7) 文中の下線部(f)について、「ぜいたくは敵だ」「欲しがりません、勝つまでは」などの標語が流布しましたが、この時の生活の様子として誤っているものを、つぎのア～エのうちから一つ選び、記号で答えなさい。

- ア 銭湯の朝湯が廃止されたり、ネオンサインが消え、閉店する飲食店もありました。
- イ 派手な服装や化粧、髪のパーマネントも禁止されました。
- ウ ガソリンなどの燃料にかわる木炭の自動車が、バスや自家用車に導入されました。
- エ 新聞記事や雑誌の内容には厳しい規制がありましたが、本の出版だけは自由にできました。

(8) 文中の下線部(g)について、日本はアメリカや中国などの連合国によって出された宣言を受け入れて無条件降伏しました。この宣言を何といいますか。

(9) 文中の下線部(h)について、日本の占領は1951年に結ばれた講和条約によって終了しましたが、この条約は、第二次世界大戦で日本と交戦した国のすべてと結ばれたものではなく、最大の交戦国であった中国や、日本の領土の一部を占領したソ連、日本が戦争中に被害を与えたインドネシアやビルマ（現ミャンマー）などは、さまざまな理由からこの条約には加わりませんでした。当時の日本では、中華人民共和国やソ連が加わらない講和条約は「全面講和」ではなく「片面講和」であって認められないという批判が強くあり、またこの条約と同時に日米安全保障条約が結ばれたことへの強い反発もありました。このような情勢で1951年に結ばれた日本と連合国との講和条約の名を答えなさい。

(10) 文中の下線部(i)について、戦後の復興期であった1947年は出生率がもっとも高まった年で、これは「第一次ベビーブーム」とよばれました。今年はこの年に生まれた人たちが60歳を迎え、その多くが定年退職をする予定です。この世代は人口が多いため、熟練した労働者や会社や役所の指導的な立場にあった人がいっせいに引退することになり、それにともなう社会の混乱が予想され、「2007年問題」といわれます。このような「第一次ベビーブーム」に生まれた世代を何の世代とよびますか。

5 つぎの文を読んで、後の問いに答えなさい。

みなさんの家にある古いアルバムを開けてみると、今とはずいぶんちがった様子が映っている写真を、何枚も見つけることができるでしょう。おじいさんのアルバムはもちろんのこと、お父さんやお母さんの時代の写真も、今とはずいぶん様子がちがったもののはずです。写真はそれぞれの時代の様子を象徴的に示すものです。

では、おじいさんの時代からの50年ほどの間に、いったいどのようなことがあったか考えてみましょう。

日本の社会は、1950年代の後半から始まる高度経済成長期に、(a)生活の様子や(b)産業のあり方、その他の全ての面で、大きな変化がありました。(c)急速な開発が自然破壊をもたらし、(d)公害問題を深刻化させたのも、この時期でした。日本の高度経済成長は、1973年に起こった(e)第一次石油危機によって終わりを告げますが、この時期に起こった変化がもとに戻ることはありませんでした。

私たちの社会は、現在も変化し続けています。家族のあり方も変わりました。子供の数が減少し、逆に65才以上の人たちの割合が増え続け、(あ)化と呼ばれる社会へと変わっています。また、人工衛星を利用した通信や、携帯電話、パーソナル・コンピュータを利用したインターネットなどが発達・普及することによって、形をもたない(い)というものが大きな価値をもつ(い)化社会が到来しています。さらに、人や物ばかりでなく、資金や技術や文化までが地球規模で広がって国境が際限なく越えられていくグローバル化や(f)ボーダーレス化が進んでいます。そのため、このような時代だからこそ、国と国との協力がいっそう必要であり、(g)国際連合などの国際機関の役割が重要になってきています。

(1) 文中の空らん(あ)(い)に適する語句を、(あ)は漢字4字、(い)は漢字2字で答えなさい。

(2) 文中の下線部(a)について、この時期の生活の変化として適切でないものを、つぎのア～エのうちから一つ選び、記号で答えなさい。

ア この時期の前半には、電気冷蔵庫や電気洗濯機などが登場し、「三種の神器」とよばれる庶民のあこがれの商品となりました。

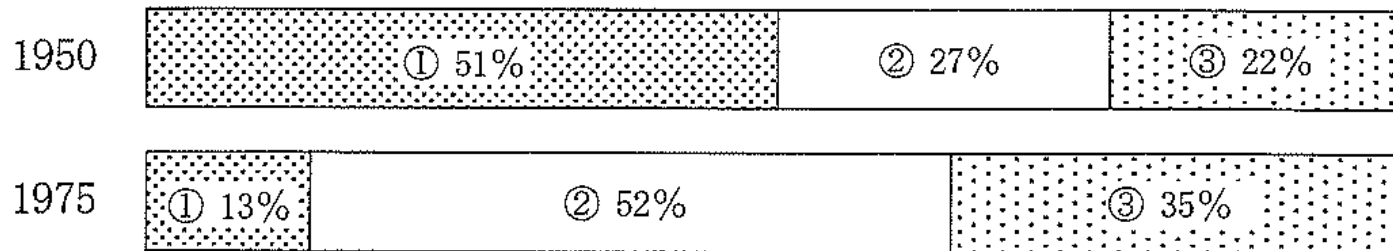
イ この時期の後半には、「3C」とよばれたカラーテレビやクーラー、自動車などが国民的に普及しはじめました。

ウ 「ボンカレー」などのレトルト食品や「チキンラーメン」や「カップヌードル」などのインスタント食品が登場しました。

エ 人口が急増したため、農業に従事する人も増えて米の生産が急速に拡大し、北海道でも「こしひかり」や「星のゆめ」「ななつぼし」といったブランド米が登場しました。

(3) 文中の下線部(b)に関して、つぎのグラフの①～③で示された産業の組み合わせとして正しいものを、下のア～エのうちから一つ選び、記号で答えなさい。

産業別就業人口の割合



- ア ① 第一次産業 ② 第二次産業 ③ 第三次産業
 イ ① 第一次産業 ② 第三次産業 ③ 第二次産業
 ウ ① 第二次産業 ② 第三次産業 ③ 第一次産業
 エ ① 第三次産業 ② 第一次産業 ③ 第二次産業

(4) 文中の下線部(c)について、日本政府はこのような問題を解決するために1971年に新しい役所を設置しました。この役所は2001年の省庁再編によって省になりましたが、この省の名を漢字で答えなさい。

(5) 文中の下線部(d)について、四大公害の説明として適切でないものを、つぎのア～エのうちから一つ選び、記号で答えなさい。

- ア 工場排水に含まれる有機水銀によって海水が汚れ、そこで育った魚を食べた人に知的障害や麻痺まひなどの障害があらわれました。
 イ 臨海コンビナートが出した煙に含まれる硫黄酸化物いおうによって大気が汚れ、そこで生活する人が呼吸器系の病気になりました。
 ウ 鉱山が川に流した排水に含まれるカドミウムによって飲料水や水田の土が汚れ、これを飲食した人の骨がもろく折れやすくなりました。
 エ 工業用水に利用する地下水をくみ上げすぎたために地盤じばんが沈み、高潮や津波などのおそれから人々がそこで生活できなくなりました。

(6) 文中の下線部(e)について、つぎの①、②の問いに答えなさい。

① このできごとを説明した文としてもっとも適切なものを、つぎのア～エのうちから一つ選び、記号で答えなさい。

- ア 湾岸戦争の時に、油田やパイプラインが破壊され、石油が生産・運搬できなくなったため、各国で石油の価格が上がりました。
 イ 第四次中東戦争の時に、国際連合が国連軍の戦艦として各国のタンカーを借り上げたため、石油の運搬ができなくなり、石油が不足しました。
 ウ 湾岸戦争の時に、アメリカのメキシコ湾岸を巨大ハリケーンが襲い、油田や石油備蓄タンクが壊れたため、アメリカが世界中から石油を輸入し、各国で石油が不足しました。
 エ 第四次中東戦争の時に、アラブ石油輸出国機構(OAPEC)が発言力を高めるために石油価格の引き上げを行ったため、各国で石油の価格が上がりました。

② このできごと以後に起こった日本の変化を述べた文として適切でないものを、つぎのア～エのうちから一つ選び、記号で答えなさい。

ア 家庭電化製品のメーカーは、こぞって「省エネ」「節電」をキャッチフレーズに新製品を開発・販売をしました。

イ 石油による火力発電に代わるものとして、原子力発電や風力発電などの導入が進められました。

ウ 石油にたよる割合を減らすため、石炭を見直す動きがあらわれ、北海道のいくつかの炭坑で石炭採掘が再開されました。

エ コンピュータによる自動化技術が開発され、これが多くの産業で採用されたことによって製品が安くつくられるようになりました。

(7) 文中の下線部(f)について、ボーダーレスとは「国境 (ボーダー) がない (レス)」という意味です。これに関するつぎの①、②の問いに答えなさい。

① ヨーロッパでは以前から、国境を越えて国家と国家が結びつくことが試みられてきました。このようなヨーロッパで、ある組織が1991年に結成され、現在までに27カ国が加盟してボーダーレスの地域を積極的に実現する努力が行われています。この組織の名前を日本語で正式に答えなさい。

② 現在、世界にはいくつもの戦災地や難民キャンプ、自然災害の被災地などがあり、多くの人々が苦しい生活を送っていますが、そのような苦境にある人々に対し、人種、宗教、政治的な関わりを超えて差別することなく緊急医療の援助を行っているNGO (非政府組織) があります。このNGOはフランスやスイスなど19か国に支部を置き、世界の70カ国を越える地域に年間約3,500人の医師、看護師、助産師らを派遣しており、この活動が世界的に評価され、1999年度のノーベル平和賞を受賞しました。このNGOは何とよばれますか。

(8) 文中の下線部(g)について、国際連合の主な機関の一つに事務局がありますが、その長である国連事務総長が2007年1月に交替しました。新たに就任した事務総長の名前と出身国として正しいものを、つぎのア～クのうちから一つずつ選び、記号で答えなさい。

ア コフィ・アナン	イ ムハマド・ユナス	ウ 明石康	エ 潘基文
オ バングラデシュ	カ 韓国	キ ガーナ	ク 日本