

平成 17 年度

北嶺中学校入学試験問題

社 会

(注意)

- 1 問題用紙が配られても、「はじめ」の合図があるまでは、中を開かないでください。
- 2 問題は全部で **11** ページで、解答用紙は 1 枚です。「はじめ」の合図があったら、まず、ページ数を確認してからはじめてください。もし、ページがぬけていたり、印刷されていないかたりする場合は、静かに手をあげて先生に伝えてください。
- 3 答えはすべて解答用紙の指定された解答らんを書いてください。
- 4 字数が指定されている場合には、特に指示のないかぎり句読点も数えてください。
- 5 質問があったり、用事ができた場合には、だまって手をあげて先生に伝えてください。ただし、問題の考え方や、言葉の意味・読み方などについての質問には答えられませんので注意して下さい。
- 6 「おわり」の合図で鉛筆をおき、先生が解答用紙を集めおわるまで、静かに待っていてください。

1 つぎの文を読んで、後の問いに答えなさい。

私たちが住む (a)北海道は、自然豊かな大地です。北海道最高峰^{さいこうほう}の火山である大雪山、(b)鮭^{さけ}がのぼる石狩川、(c)カルデラ湖^{とうめいど}で透明度^{まじゆうこ}が高いことで有名な摩周湖などの自然が広がり、寒さの厳しい冬には流氷^{りゅうひょう}が (①) 海沿岸に押し寄せます。また、世界遺産に登録されようとしている知床半島が注目を集めています。

北海道はかつて (②) と呼ばれ、江戸時代には (③) 藩が (d)水産業を通じて沿岸一体の土地と (e)先住民^{せんじゅうみん}族を支配^{しはい}しました。明治以後は名称を北海道と改め、開拓使をおき、移民を招き、また屯田兵によって開拓が行われました。その後 1886 年に北海道庁がおかれ、内陸部の開発がすすみ、またこのころから (f)稲作が可能となりました。

北海道は (g)北方領土問題を抱える土地でもあります。この問題については、現在もロシア連邦との交渉が続けられています。

(1) 空らん (①) ~ (③) に適する語句を答えなさい。

(2) 下線部(a)について、つぎのア~エの緯線のうち、北海道を通るものを1つ選び、記号で答えなさい。

ア 北緯35度 イ 北緯40度 ウ 北緯45度 エ 北緯50度

(3) 下線部(b)について、石狩川の中流から下流の地域には、洪水^{こうすい}などで川の流れが変わったために以前の川の跡^{あと}が取り残されてできた湖が多くあります。このような湖を何とよぶか答えなさい。

(4) 下線部(c)について、カルデラとは、火山^{ばくはつ}の爆発によって形成されたくぼ地です。火山の多い日本にはこの地形が多数あり、その最大級のものは熊本県の北東部にある山です。この山の名を答えなさい。

(5) 下線部(d)について、北海道では現在でも水産業がさかんですが、近年は北洋漁業^{きたうりぎ}が振るわなくなってきました。その代わりに北海道でさかんになっている水産業として正しいものを、つぎのア~エの中から1つ選び、記号で答えなさい。

- ア アジやサバなどの近海漁業
- イ 真珠^{しんじゆ}やウナギなどの養殖^{ようしよく}
- ウ 昆布^{こんぶ}やホタテ貝などの養殖
- エ カツオやマグロなどの遠洋漁業

(6) 下線部(e)について、江戸時代のはじめごろ、和人の不正な取り引きで生活が圧迫されたアイヌ民族は、ある指導者に率いられて戦いをおこしました。このアイヌ民族の指導者の名前を答えなさい。

(7) 下線部(f)について、北海道の稲作について述べた文として誤っているものを、つぎのア～エの中から1つ選び、記号で答えなさい。

ア ^{でいたんち}泥炭地に^{まきくど}客土がすすめられ、平野部に水田が広がりました。

イ 北海道で栽培されている主な^{まいがらまい}銘柄米は、ササニシキです。

ウ 北海道で稲作がとくにさかんな地域は、石狩平野です。

エ 北海道の米の生産量は、新潟県や秋田県とともに全国有数です。

(8) 下線部(g)について、1956年の日ソ共同宣言において、ソ連（現ロシア連邦）は平和条約を結んだ後に、つぎの地図のA・Bを返還するとしました。A・Bの名を、つぎのア～エの中からそれぞれ選び、記号で答えなさい。

ア ^{えとろふ}択捉島

イ ^{しこたん}色丹島

ウ ^{くなしり}国後島

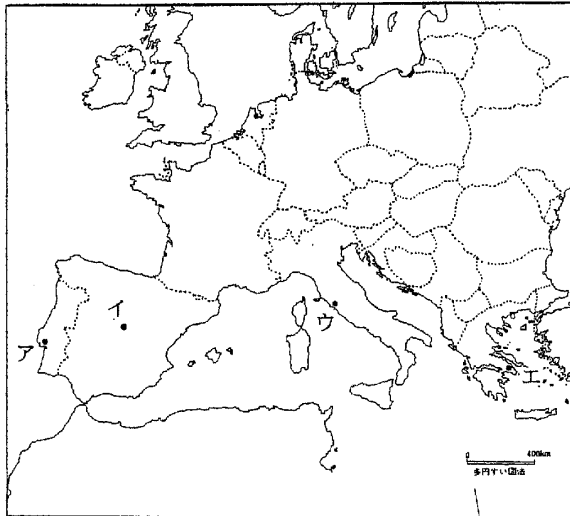
エ ^{はままい}歯舞諸島



2 つぎの文を読んで、後の問いに答えなさい。

2004年の夏は、(a)アテネで4年に1度のオリンピックが、200以上の国や地域が参加して開催されました。日本選手が大活躍し、メダルラッシュに、(b)日本列島は大きく盛り上がりました。また、北海道では駒大、(c)苫小牧高校が決勝戦で、(d)愛媛県しんくの済美高校を見事に破り、(e)甲子園で本道勢として初の優勝をとげ、深紅の大優勝旗が初めて、(f)津軽海峡を越え北海道に渡りました。道民は大きな感動に包まれました。そんな昨年の夏の日本列島は、(g)記録的な猛暑に見まれ、北海道も記録的な暑い日が続きました。8月から9月にかけては、(h)台風が次々と来襲して全国各地に大きな被害があり、特に台風18号によって北海道各地に大きな被害が出ました。

- (1) 下線部(a)について、ギリシアのアテネの位置を、右の地図の中のア～エの中から1つ選び、記号で答えなさい。



- (2) ギリシアの首都アテネは東京と同じ気候帯に属します。これと同じ気候帯に属する世界の都市を、つぎのア～エの中から1つ選び、記号で答えなさい。

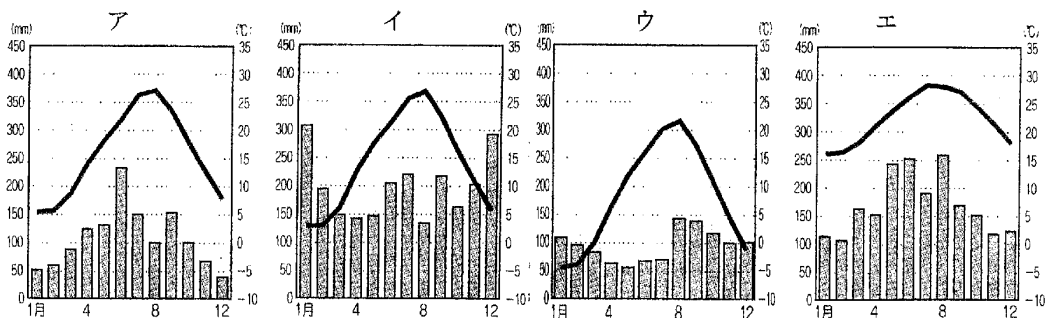
- | | |
|--------------|---------------------|
| ア ロシアの首都モスクワ | イ アルゼンチンの首都ブエノスアイレス |
| ウ エジプトの首都カイロ | エ フィリピンの首都マニラ |

- (3) 下線部(b)について、日本列島は周りを海に囲まれ、海流の影響を強く受けた気候になっています。なかでも西南諸島から太平洋岸を北上してくる暖流は気候や漁業に大きな影響を与えています。この暖流の名を答えなさい。

- (4) 下線部(c)について、苫小牧市は古くから地元の資源を利用した工業がさかに行われてきましたが、どのような工業ですか。つぎのア～エの中から1つ選び、記号で答えなさい。

- | | | | |
|------|-------|--------|---------|
| ア 製鉄 | イ せんい | ウ 精密機械 | エ 紙・パルプ |
|------|-------|--------|---------|

(5) 下線部(d)について、愛媛県の県庁所在地は夏目漱石の「坊ちゃん」で有名な都市です。この都市名を答えなさい。また、瀬戸内海に面しているこの地方の雨温図を、つぎのア～エの中から1つ選び、記号で答えなさい。



(6) 下線部(e)について、甲子園球場は兵庫県西宮市にあります。西宮市の西方約 30 kmには明石市があり、ここが日本の標準時と定められています。明石市を通過する経度は、東経何度か答えなさい。

(7) 下線部(f)について、津軽海峡には世界最長の海底トンネルが通り、北海道と青森県を結んでいます。日本には、この他にもう1カ所海底トンネルが通っているところがありますが、それは何県と何県を結んでいますか。両方の県名を答えなさい。

(8) 下線部(g)について、日本の最高気温を記録しているのは、山形市で 40.8℃です。つぎの表は、山形県の生産量が全国で第1位の農産物の生産量と割合を都道府県別に表したものです。この農産物は何か答えなさい。

	生産量 (t)	全国割合 (%)
山形県	14 800	75.5
北海道	1 500	7.7
青森県	1 420	7.2
山梨県	952	4.9
秋田県	348	1.8
福島県	279	1.4

(農林水産省「果樹生産出荷統計 (2001年)」より)

(9) 下線部(h)について、日本の台風と同じように、熱帯の海域で発生し大きな被害をもたらす暴風雨が世界各地にあります。その中で、メキシコ湾やカリブ海で発生しアメリカ合衆国本土にも大きな被害を与えている暴風雨の名を、つぎのア～エの中から1つ選び、記号で答えなさい。

ア ハリケーン イ サイクロン ウ トルネード エ プリザード

3 つぎのA～Dの文を読んで、後の問いに答えなさい。

A いま全国では市町村の合併について議論が行われています。さかのぼると、古代より日本の土地についての制度は実にさまざまでした。645年の大化の改新以後、(a)日本では律令体制が整えられていき、それは701年に定められた(①)によって完成します。律令体制において、(b)土地と人民はすべて国家のものであるとされ、戸籍にもとづいて農民に口分田が与えられる班田收授の法がおこなわれるようになりました。

(1) 空らん(①)に適する語句を答えなさい。

(2) 下線部(a)について、このころ大友皇子(天智天皇の息子)と大海人皇子(天智天皇の弟)のあいだに戦いが起こり、勝利した大海人皇子が天武天皇として即位しました。この戦いの名を答えなさい。

(3) 下線部(b)の制度を何といいますか。漢字4文字で答えなさい。

B (c)奈良時代になると、743年の(d)墾田永年私財法により私有地が認められるようになり、日本の土地制度は大きく変化しました。さらに平安時代になると、地方の有力農民が私有地を広げ、その利益を守るために京都の貴族や寺社などに寄進するようになりました。

(4) 下線部(c)について、この時代には、東大寺などの大寺院が建立されるなど、仏教を中心とした国際色豊かな文化がさかえました。この文化を何とよぶか答えなさい。

(5) 下線部(d)について、これを説明した文として正しいものを、つぎのア～エの中から1つ選び、記号で答えなさい。

ア 新しく開墾した土地は、本人に限って私有地として認められる。

イ 新しく開墾した土地は、役人の立ち入りを禁止する権利が認められる。

ウ 新しく開墾した土地は、期限をもうけないで私有地として認められる。

エ 新しく開墾した土地は、本人から孫の代までのあいだ私有地として認められる。

C 鎌倉時代と室町時代には、(f)全国に守護と地頭がおかれました。戦国時代になると、各地の大名は自国の支配を強めるために、農地の調査を行いました。織田信長の後に天下を統一した(②)は、はじめて(g)全国の土地の面積や収穫高、耕作している農民を調べ、年貢をとりたてるもとをかためました。農地の調査は、江戸幕府にも引き継がれました。

(6) 空らん(②)に適する人名を答えなさい。

(7) 下線部(f)について、源頼朝によって初めて全国に守護と地頭がおかれた年には、平安時代の末に大きな力をほこった武士の一族が壇ノ浦の戦いで滅びました。この一族の姓を答えなさい。

(8) 下線部(g)について、これを太閤検地とよびますが、この結果、土地の制度はどう変わりましたか。正しい文を、つぎのア～エの中から1つ選び、記号で答えなさい。

- ア 各地の大名が力を強め、それぞれの地方によって異なる政治が行われるようになった。
- イ 多くの農地が貴族や寺社に寄進され、荘園として保護されるようになった。
- ウ 国司による口分田の支給が完全になくなり、すべての農地が私有地になった。
- エ 荘園が完全になくなり、貴族や寺社の土地に対する権利がなくなった。

D 明治になって地租改正が行われ、(h)土地の所有者が土地の価格の3%を現金で納めるようになりました。また、土地の売り買いができるようになったため、地主は貧しい農民から農地を買い集め、社会に大きな影響力を持つ大地主になりました。この制度が大きく変えられたのは第二次世界大戦後で、マッカーサーを最高司令官とする連合国軍総司令部(GHQ)の指導による(③)でした。この改革によって、農地を持たない小作農に土地が与えられ、多くの農民が自作農になりました。

(9) 下線部(h)について、この結果、農民の負担は江戸時代と比べてどうなりましたか。正しいものを、つぎのア～ウの中から1つ選び、記号で答えなさい。

- ア 農民の負担は、江戸時代よりも軽くなった。
- イ 農民の負担は、江戸時代よりも重くなった。
- ウ 農民の負担は、江戸時代と変わらなかった。

(10) 空らん(③)に適する語句を答えなさい。


4 つぎの文を読んで、後の問いに答えなさい。

私たちが使っている (a)お札に昨年11月、新しいものが加われました。新しいお札は (b)千円、五千円、一万円 です。20年ぶりにデザインが変わりました。そのデザインは、表に人物、(c)裏には建物や風景、動植物が印刷されています。(d)お札にえがかれている人物は、(e)政治家が多かったのですが、近年のお札には文化人が多く採用されています。今回は、千円札は野口英世、五千円札には戦後で初めて女性が登場しました。そして、一万円札は前と同じ福沢諭吉が使われています。

今回の3人の文化人について少し説明しましょう。まず、(f)野口英世は医者として、また科学者として、伝染病や細菌の研究でアメリカやアフリカなどで活躍しました。3人の中では明治・大正・昭和と3つの時代にまたがる人物です。つぎに、(g)五千円札の女性は明治時代の小説家で、貧しい生活の中で作品を残しましたが、24歳という若さでなくなりました。最後は福沢諭吉です。(h)明治時代を代表する思想家で、教育者でもありました。早くから外国の学問に興味があり、江戸幕府の使節でアメリカやヨーロッパに渡り、新しく進んだものを見てきました。そして、数々の本を書き、中でも (i)『学問のすすめ』は有名です。

- (1) 下線部(a)について、お札は正しくは「紙幣」といいますが、日本の紙幣は正式には何といいますが。漢字5文字で答えなさい。
- (2) 下線部(b)について、現在用いられている紙幣には、これらの他に沖縄サミットの開かれた年に発行された二千円札があり、下の〈図Ⅰ〉は、その表面に描かれている建物です。これは、ある城の入口にある門で、この建物を含む城の一角がユネスコの世界文化遺産に登録されています。この城の名を答えなさい。また〈図Ⅱ〉も、世界文化遺産に登録されている日本の城で、これは兵庫県にあります。この城の名を答えなさい。

〈図Ⅰ〉



〈図Ⅱ〉



- (3) 下線部(c)について、新しい一万円札の裏には「鳳凰」がえがかれています。この鳳凰は、京都府の宇治にある平等院鳳凰堂のものです。この建物は、平安時代に建てられました。これを建てた人物の名前を答えなさい。
- (4) 下線部(d)について、お札に登場した回数が一番多い人物は聖徳太子です。聖徳太子について正しく述べている文を、つぎのA～Eの中から1つ選び、記号で答えなさい。
- ア 十七条の憲法を定め、役人が守るべき心がまえを示しました。
- イ 冠位十二階を定め、人々に納めさせる税のしくみを整えました。
- ウ 遣唐使を派遣し、中国の進んだ文化や政治のしくみを取り入れようとしてしました。
- エ 仏教を深く信仰し、延暦寺などの大きな寺院を建てました。
- (5) 下線部(e)について、以前の千円札には、大日本帝国憲法を定めた中心人物で、内閣制度をつくり、初代の内閣総理大臣になった人物がえがかれていました。この人物の名前を答えなさい。
- (6) 下線部(f)について、彼が生まれたのは磐梯山や猪苗代湖のある県で、この県の内陸にあった会津藩は、明治政府に対して最後まで幕府側で戦ったところです。この県の名を答えなさい。
- (7) 下線部(g)について、この人物は『にぎりえ』『たけくらべ』などの作品を残しました。この人物の名前を答えなさい。
- (8) 下線部(h)について、この時代の後半に日本は中国(清)との戦争に勝利し、台湾などを植民地にしました。この戦争の講和条約の名を答えなさい。
- (9) 下線部(i)について、福沢諭吉はこの本の中で、「天は()の上に()をつくらず、()の下に()をつくらず」と述べています。()に共通する語句を漢字1文字で答えなさい。

5 つぎの文を読んで、後の問いに答えなさい。

みなさんは、身の回りのことや世界のことなど、自分自身もその一人である「社会」について考えたことはありますか？ ここでは、それらのことについて考えてみることにしましょう。

わたしたちは毎日あいさつをしたり、箸^{はし}を使って食事をしたり、本や新聞を読んだり、計算をしたりします。また、人と話をしたり、相手の気持ちを思いやったり、友人と助け合ったりもします。

このような人間らしいことは、自然に身についたのではなく、(a)家族や学校などのさまざまな集団の中で、人の真似^{まね}をしたり、人から教わったりして身につけたものです。これらはすべて、わたしたち自身がその一人となっている社会の中で、(b)人間関係（人と人とのつながり）を通じて身につけたものなのです。(c)わたしたちは、一人では決して生きていくことはできず、さまざまな人間関係の中で、はじめて人間として生きていけるものです。こうして、わたしたちはさまざまなことを身につけ、人間として成長していきます。

しかし、そのようなわたしたちは、同時に一人一人がお互いにちがった人間でもあります。姿や形もさまざまですし、考え方や理想もそれぞれちがいます。もし、自分とちがうからといって、そのちがいを無視して、自分のことだけを主張したり、押し通したりすると、そこには必ず対立や争いが生まれます。これらの対立や争いが、国と国との間で生まれると、場合によっては戦争の原因にもなり、そうなればわたしたちの命さえ奪われてしまうことにもなります。

ですから、これらの対立や争いなどを解消する必要があります。そのためには、話し合ったり、ルールをつくったりする努力が必要です。このような努力のことを、広い意味で政治といいます。

普通、わたしたちは「政治」といえば、(d)国や地方が行うさまざまな仕事を思い浮かべます。しかし、政治の本来の目的は、人と人との対立・争いや(e)国と国との対立・争いなどをなくし、(f)よりよい人間関係をきずいていく ことにあるのです。

- (1) 下線部(a)について、わたしたちの属する集団は、「自然にできた集団」と「ある目的のためにつくられた集団」に分類^{ぶんれい}することができます。これについて、つぎのA～Eの中からもっとも適切な文を1つ選び、記号で答えなさい。

- ア 家族は、自然にできた集団ではなく、ある目的のためにつくられた集団です。
- イ 会社は、自然にできた集団ではなく、ある目的のためにつくられた集団です。
- ウ 親戚^{しんせき}は、自然にできた集団ではなく、ある目的のためにつくられた集団です。
- エ 地域は、自然にできた集団ではなく、ある目的のためにつくられた集団です。

- (2) 集団には、自由民主党や民主党のように、同じような考えを持つ人々が集まり、政治活動をする集団もあります。このような集団を何というか答えなさい。

(3) 下線部(b)について、さまざまな人間関係には、結婚という関係も含まれますが、結婚した後の夫婦の姓について、つぎのア～エの中から正しいものを1つ選び、記号で答えなさい。

- ア 妻の姓は、夫の姓に変えなければならない。
- イ 夫の姓は、妻の姓に変えなければならない。
- ウ 夫の姓か妻の姓か、どちらかの姓に変えなければならない。
- エ 夫と妻は、結婚後も自分の姓を変えなくてもよい。

(4) 下線部(c)について、このことを短く言い表した文としてもっとも適切なものを、つぎのア～エの中から1つ選び、記号で答えなさい。

- ア 人間は社会的な動物である。 イ 人間は感情的な動物である。
- ウ 人間は個人的な動物である。 エ 人間は科学的な動物である。

(5) 下線部(d)について、地方の政治について正しく述べている文を、つぎのア～エの中から1つ選び、記号で答えなさい。

- ア 札幌市長は、札幌市役所の職員の中から、選挙で選ばれます。
- イ 北海道知事は、北海道議会の議員の中から、選挙で選ばれます。
- ウ 札幌市長は、札幌市議会の議長をかねています。
- エ 北海道の副知事は、知事が選び、議会が認めて決まります。

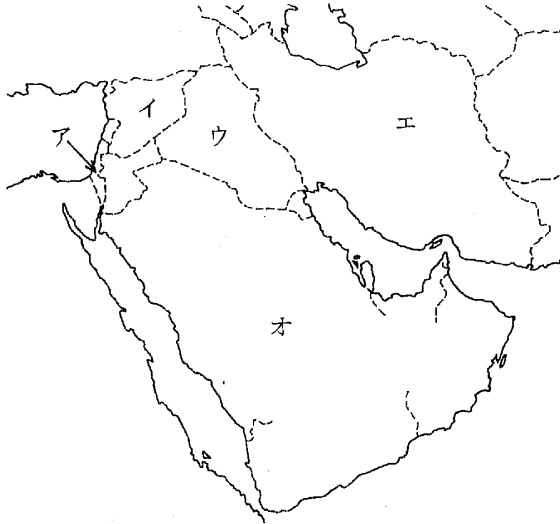
(6) 現在の政府は、国と地方との関係を見直し、「地方の自主性」を重んじる方向で改革を進めています。この方向としてもっとも適切なものを、つぎのア～エの中から1つ選び、記号で答えなさい。

- ア 国の収入の中で、直接税の収入より間接税の収入を増やす。
- イ 地方の収入の中で、地方税などによる独自の収入を増やす。
- ウ 国が地方の財政をたすける補助金や助成金を増やす。
- エ 都道府県や市町村が法律を定めることを認める。

(7) 下線部(e)について、世界にはさまざまな対立や争いがあり、日本にも領土をめぐる他国との対立があります。その1つに「尖閣諸島」をめぐる領土問題があります。この問題で日本と対立している国としてもっとも適切なものを、つぎのア～エの中から1つ選び、記号で答えなさい。

- ア ロシア イ 北朝鮮 ウ 韓国 エ 中国

- (8) 世界には現在も戦争が行われている国があります。そのうち 2003 年にアメリカの攻撃で戦争が始まり、その戦後復興のために日本から自衛隊が派遣されている国があります。この国の名を答えなさい。また、その国の位置を、つぎの地図の中のア～オの中から1つ選び、記号で答えなさい。



- (9) 国と国との対立や争いを解消するための組織に国際連合があります。国際連合について述べた文として誤っているものを、つぎのア～エの中から1つ選び、記号で答えなさい。

ア 国際連合の事務局はニューヨークにおかれ、現在の事務総長はガーナ人のアナン氏です。

イ 国際連合の最高機関は全加盟国で構成される総会で、その決定は全会一致によってなされます。

ウ 総会とならんで重要な安全保障理事会は、アメリカ・ロシア・イギリス・フランス・中国の五大国を常任理事国としています。

エ ユネスコ・ユニセフ・世界保健機構などは、国際連合の専門機関です。

- (10) 下線部(f)について、このためには国際的な協力も必要です。国際協力の活動をしている団体には、国際赤十字や国境なき医師団、アムネスティ・インターナショナルなど、各国の政府や国際連合から独立して活動する民間のものもあります。このような団体を何といいますか。ローマ字3文字で答えなさい。