

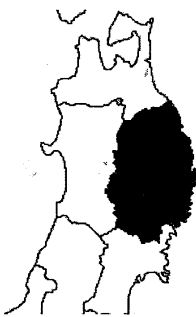
平成16年度 札幌光星中学校入学試験問題 社会

注意事項

1. 試験時間は、45分間です。
2. 開始の合図により、始めて下さい。
3. 印刷が不明な場合のほかは、問題についての質問は受けません。
4. 解答は、すべて解答用紙に記入して下さい。
5. 試験終了後は、解答用紙回収が終わるまで、席を立たず、静かにして下さい。

1 次のA～Eは、ある県の位置を黒く示した地図とその県の説明文です。それぞれの県名と県庁所在地を答えなさい。また、文中の空欄(1)～(5)にあてはまる語句を答え、さらに下線部①～⑤についての問いにも答えなさい。

A



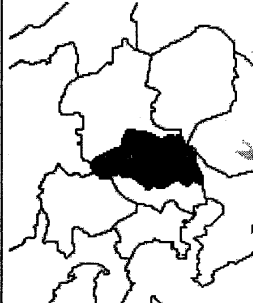
この県は、本州の北東部に位置し、東西約122km、南北約189kmと南北に長い形をしています。面積は北海道の次に広く、日本の国土の約4%を占めています。

この県の南側の沿岸部は、陸地の沈降によってできた(1)式海岸となっています。北側の沿岸部の切り立った断崖の海岸と合わせて、陸中海岸国立公園に指定されています。また、天然のすぐれた漁港・港湾にもめぐまれ、その沖合には世界有数の漁場があります。

この県の沿岸部は海洋性の気候ですが、①寒流の影響で一般的に気温が低く、冷害がおこりがちです。

問1 下線部①について、この海流の名前を答えなさい。

B



この県は、関東平野の内部に位置し、東西約103km、南北約52km、面積は日本の国土の約100分の1にあたり、全国で39番目の広さです。

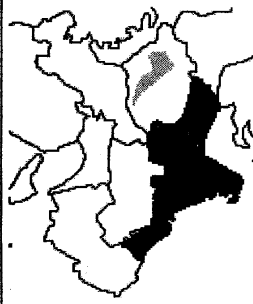
この県では、昭和30年代の中ごろから、県南部を中心に②急激に人口が増加しました。平成14年には700万人をこえ、現在も増えつづけています。

この県には、企業や各家庭から出されるゴミの焼却施設が多くあります。最近では、塩化ビニールなどを燃やすと発生する有害な(2)への対策がすすみ、環境調査、ゴミの減量化や分別回収、リサイクルなどがおこなわれています。また、条例を定め、企業が設備の不十分なところでゴミを焼却することを禁止しています。

問2 下線部②について、この理由としてまちがっている文を、次のア～エから1つ選び、記号で答えなさい。

- ア. 東京都のとなりに位置していることから、都市化がすすんだ。
- イ. 交通網の発達によって、東京への通勤・通学が便利になった。
- ウ. 県内の工業・サービス業で働く人々が、県外から流入した。
- エ. 大都市圏への農産物の出荷が増え、農業人口が増加した。

C

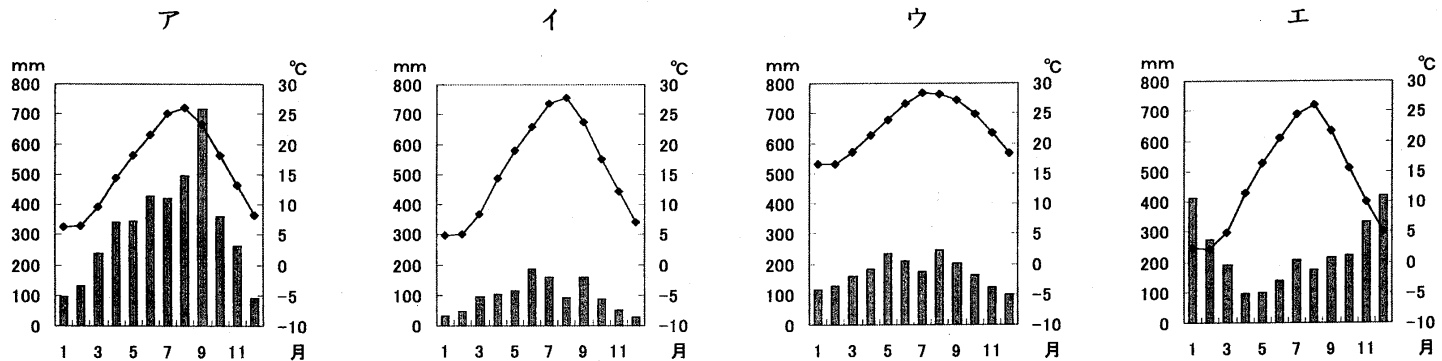


この県は、東西約80km、南北約170kmの南北に細長い形をしています。面積は日本の国土の約1.5%を占め、全国で25番目の広さです。

伊勢湾沿岸は、なだらかな砂浜の海岸がつづき、それに沿うように伊勢平野が広がっています。早くから都市化がすすみ、人口密度が高い地域です。中京工業地帯にふくまれ、石油化学工業などがさかんです。四大公害病の1つである(3)がおこった都市もあります。

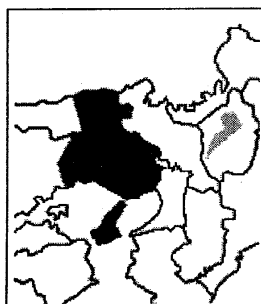
太平洋沿岸は、年間平均気温が16～17度と、四季を通じて温暖です。③尾鷲市のある県南部は、日本で最も雨量の多い地方の1つといわれています。

問3 下線部③について、この市の月別平均気温と月別平均降水量をあらわしたグラフを、次のア～エから1つ選び、記号で答えなさい。



「日本各地の月別平均気温と月別平均降水量」(日本国勢図会2003/04)

D



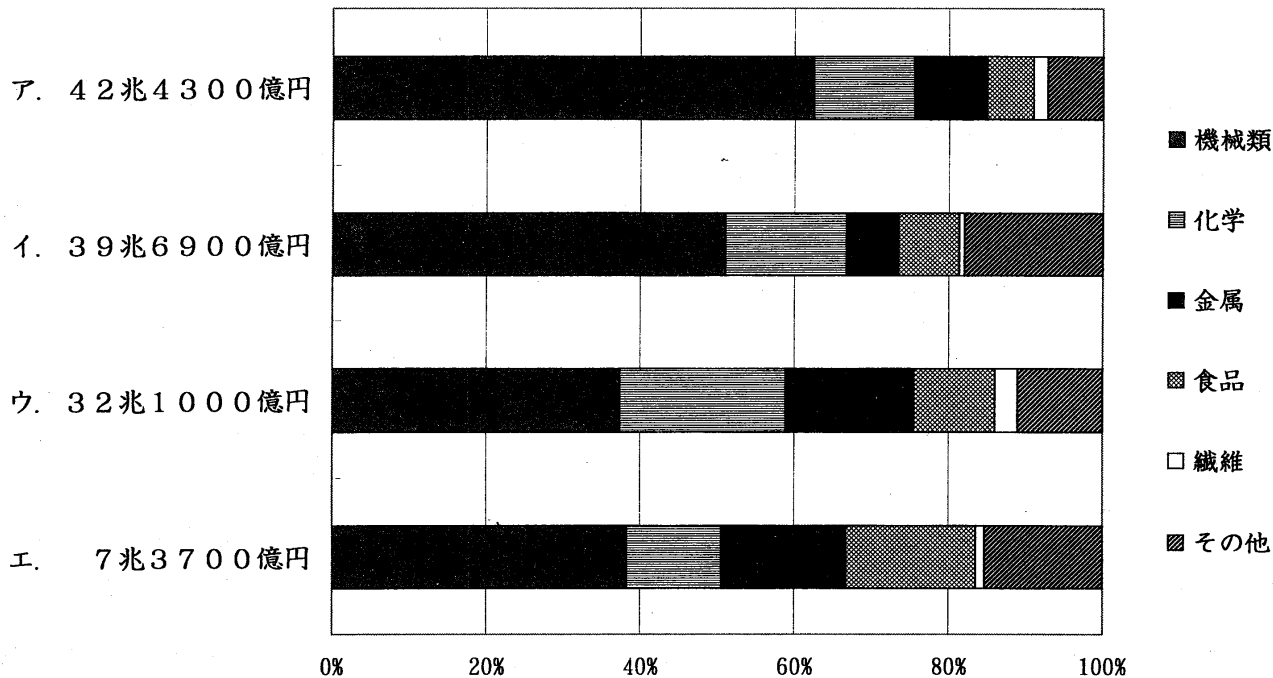
この県は、日本列島のほぼ中心に位置し、日本の標準時を決める東経135度の子午線が通っています。北は日本海、南は瀬戸内海に面し、面積は約8392 km²で、全国で12番目の広さです。

瀬戸内海沿岸は、となりの大阪府とともに四大工業地帯の1つである④阪神工業地帯となっています。中小企業が多く、各種工業のさかんなところです。

また、この県の西南部は、歴史的な建造物や街並みが今でも残る地域です。なかでも(4)城は世界遺産に登録され、多くの観光客でにぎわっています。

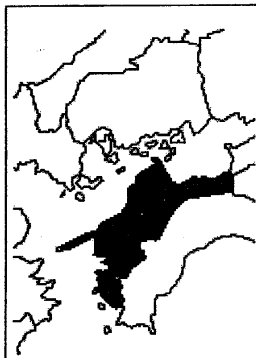
問4 下線部④について、この工業地帯にあてはまるものを、次のア～エから1つ選び、記号で答えなさい。

「四大工業地帯の総出荷額と出荷額割合 2000年」



(日本国勢図会2003/04)

E



この県は、四国の北西部に位置し、北は瀬戸内海、西は宇和海に面し、長い海岸線と多くの島々からなっています。面積は約5676 km²で、全国で26番目の広さです。

古くは「伊予の国」とよばれ、瀬戸内海の水上交通で栄えました。気候は温暖で、農業では⑤みかんなどの果樹栽培がさかんにおこなわれています。漁業もさかんで、宇和海の(1)式海岸では宝飾品の材料となる(5)が養殖され、瀬戸内海でもマダイ・ハマチなどが養殖されています。

また、工業は瀬戸内海沿岸を中心に化学・電気機械などの分野がさかんで、四国最大の製造品出荷額をほこります。瀬戸内しまなみ海道の開通によって、本州と陸路で結ばれました。

問5 下線部⑤について、これの県別生産量にあてはまる表を、次のア～エから1つ選び、記号で答えなさい。なお、表は、みかん・栗・びわ・キウイフルーツのいずれかのものです。

ア			イ			ウ			エ		
順位	県名	生産量(t)	順位	県名	生産量(t)	順位	県名	生産量(t)	順位	県名	生産量(t)
1位	長崎	3280	1位	E	209400	1位	E	10500	1位	茨城	5100
2位	香川	911	2位	和歌山	187400	2位	福岡	6830	2位	熊本	4710
3位	E	882	3位	静岡	149100	3位	和歌山	4230	3位	E	2580
4位	千葉	803	4位	熊本	105800	4位	静岡	2380	4位	埼玉	1060
5位	鹿児島	794	5位	佐賀	100800	5位	山梨	2170	5位	岐阜	976
全国合計		9890	全国合計		1282000	全国合計		41800	全国合計		29000

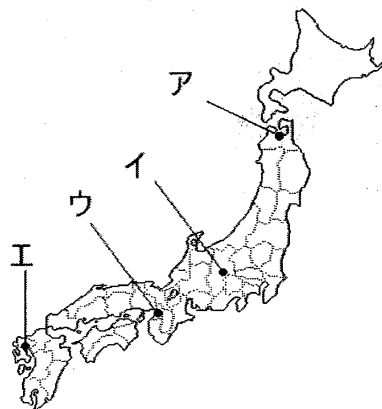
「果物の主産地の生産量 2001年産」(日本国勢図会2003/04)

2 次のA～Kの文は、各時代の様子やできごとをあらわしています。文中の下線部①～⑫についての各問いに答えなさい。

A. ①弥生時代には、土器や②金属器が使われ、稲作がはじまっていたことが確認されています。米づくりやほかの「むら」との戦いのときには、人々をまとめるリーダーがいたとされています。

問1 下線部①について、この時代の遺跡である吉野ヶ里遺跡の位置を、右の地図のア～エから1つ選び、記号で答えなさい。

問2 下線部②について、「まつり」のときにかざったり、鳴らしたりして使ったとされる金属器を答えなさい。



B. 大和朝廷による統一がすすみ、大王や豪族の墓として大きな古墳がつくられました。また、朝鮮半島から仏教が伝えられ、③聖徳太子らは仏教をさかんにすることに力を入れました。

問3 下線部③について、この人物がおこなったことにあてはまらないものを、次のア～エから1つ選び、記号で答えなさい。

ア. 大化の改新をおこなった。
ウ. 冠位十二階を定めた。

イ. 十七条の憲法を制定した。
エ. 中国に小野妹子を派遣した。

C. 平城京が奈良につくられ、各地から集められた税によって国力がゆたかになりました。都には④東大寺がつくられ、地方には国分寺がつくられるなど、⑤仏教がさかんにになりました。

問4 下線部④について、この寺にある、国際的な文化の交流をしめす多くの宝物がおさめられている建造物を答えなさい。

問5 下線部⑤について、庶民への布教が禁じられていた仏教を広め、人々のために橋や道路、ため池などをつくった僧を、次のア～エから1つ選び、記号で答えなさい。

ア. 行基

イ. 空海

ウ. 鑑真

エ. 最澄

D. 平安時代には、⑥藤原氏などの有力な貴族が政治をおこないました。都では貴族の文化が花開き、大和絵や⑦かな文字などの日本独自の文化が生まれました。

問6 下線部⑥について、この一族が独占した、成人の天皇をたすける役職の名前を答えなさい。

問7 下線部⑦について、これを使って書かれた文学作品にあてはまらないものを、次のア～エから1つ選び、記号で答えなさい。

ア. 『竹取物語』

イ. 『古事記』

ウ. 『源氏物語』

エ. 『枕草子』

E. 鎌倉時代になると、御家人は⑧将軍によって領地をもつことを認められ、戦いの時には将軍のために命がけで戦いました。この時代には各地で農業がさかんにになり、あまった品物を交換する市も開かれました。

問8 下線部⑧について、1192年に征夷大將軍となった人物を答えなさい。

F. 室町時代になると、農業や商工業がますますさかんになり、庶民の力も高まってきました。⑨1485年に山城国でおこった一揆では、農民たちが地元の武士たちと力を合わせて大名を追い出しました。

問9 下線部⑨について、このできごとにもっとも近い年におこった戦いを、次のア～エから1つ選び、記号で答えなさい。

- ア. 壇ノ浦の戦い イ. 文永の役 ウ. 応仁の乱 エ. 本能寺の変

G. 豊臣秀吉は織田信長のあとをうけつぎ、全国支配をすすめました。このために、秀吉は農地を調べたり、⑩武士と農民の身分を区別するなどの政策をおこないました。

問10 下線部⑩について、大仏をつくることを理由に、農民から武器をとりあげた命令を答えなさい。

H. 江戸幕府は、3代将軍徳川家光のときに鎖国にふみきりました。これにより、⑪外国との貿易は長崎にかぎられ、その利益や海外の情報は幕府が独占するようになりました。

問11 下線部⑪について、幕府が貿易相手として認めた国の組み合わせとして正しいものを、次のア～エから1つ選び、記号で答えなさい。

- ア. 朝鮮・ポルトガル イ. 朝鮮・イギリス ウ. 中国・スペイン エ. 中国・オランダ

I. 明治政府は、西洋にならって政治や社会の改革をすすめました。この急激な変化に不満をもった人々は、政府に対して⑫さまざまな運動をおこしました。

問12 下線部⑫について、このうち、国会の開設を求めることに始まった全国的な運動を何というか答えなさい。

J. ⑬国際連盟を脱退した日本は、1940年にドイツ・イタリアと三国同盟を結びました。資源を求めてアジアへの進出を強めた日本は、アメリカなどに対立し、1941年に太平洋戦争をおこしました。

問13 下線部⑬について、この理由として正しいものを、次のア～エから1つ選び、記号で答えなさい。

- ア. 台湾を支配したことを非難されたから。
イ. 満州の大部分を占領したことを非難されたから。
ウ. 韓国を併合したことを非難されたから。
エ. 樺太の南半分を獲得したことを非難されたから。

K. 1945年、第二次世界大戦に敗れた日本は、⑭連合国軍に占領されました。その後、日本は1951年に⑮サンフランシスコ平和条約で独立を回復し、国際社会に復帰しました。

問14 下線部⑭について、この軍の最高司令官となった人物を答えなさい。

問15 下線部⑮について、これに調印する前のできごととして正しいものを、次のア～エから1つ選び、記号で答えなさい。

- ア. 日米安全保障条約の調印 イ. 沖縄の返還
ウ. 日本国憲法の施行 エ. 日本の国際連合加盟

3

次のA・Bの文を読んで、文中の空欄（ 1 ）～（ 4 ）にあてはまる語句を答えなさい。また、下線部①～⑥についての問いにも答えなさい。

A. 日本国憲法の前文には、3つの原則が示されています。それは、①国の政治のあり方を決める最高の力は国民にあるという（ 1 ）の原則と、②すべての人間は、生まれながらに自由・平等で、人間らしく生きる権利を持っているという（ 2 ）の尊重と、外国との争いを戦争で解決しないという平和主義です。この原則にもとづいてつくられた日本国憲法は103条からなり、③天皇の地位や仕事、国民の権利と義務、国の政治の基本的なしくみなどについて定めています。

問1 下線部①について、日本国憲法で定められていないものを、次のア～エから1つ選び、記号で答えなさい。

- ア. 最高裁判所裁判官の国民審査をする。 イ. 国民が国会議員を選挙する。
ウ. 憲法改正の国民投票をする。 エ. 国民が内閣総理大臣を選挙する。

問2 下線部②について、日本国憲法で定められていないものを、次のア～エから1つ選び、記号で答えなさい。

- ア. 信教・学問・思想の自由 イ. 税金をおさめる自由
ウ. 住居・移転や職業を選ぶ自由 エ. 言論・出版の自由

問3 下線部③について、この内容としてまちがっているものを、次のア～エから1つ選び、記号で答えなさい。

- ア. 天皇は日本国の象徴である。 イ. 天皇の地位は日本国民の総意にもとづく。
ウ. 天皇は法律を公布する。 エ. 天皇の仕事は国会の助言と承認を必要とする。

B. 第二次世界大戦後、世界の平和と安全を守るため、1945年に51か国が参加して国際連合（国連）がつけられました。本部のある都市は、アメリカ合衆国の（ 3 ）で、現在は世界の大部分の国が加盟しています。

国連では、④安全保障理事会が中心となって⑤平和維持活動などをおこなうほか、人々の生活の向上をはかる活動や地球環境を守る活動にも取り組んでいます。熱帯林の減少や⑥地球の温暖化、（ 4 ）によるオゾン層の破壊、酸性雨などの環境問題は、世界各国が力を合わせる必要があるからです。

問4 下線部④について、この理事会の常任理事国にあてはまらない国を、次のア～エから1つ選び、記号で答えなさい。

- ア. ドイツ イ. ロシア ウ. イギリス エ. フランス

問5 下線部⑤について、この活動をアルファベットで何というか、次のア～エから1つ選び、記号で答えなさい。

- ア. NATO イ. PKO ウ. WTO エ. ILO

問6 下線部⑥について、1997年に世界約160の国と地域の代表が日本に集まり、地球温暖化防止会議が開かれました。この会議が開かれた都市を、次のア～エから1つ選び、記号で答えなさい。

- ア. 東京 イ. 横浜 ウ. 京都 エ. 大阪

4 次のA～Eの文は、2003年のできごとです。文中の空欄(1)～(5)にあてはまる語句を、次のア～エから1つ選び、記号で答えなさい。

A. 3月23日、第75回アカデミー賞の授賞式がロサンゼルスでおこなわれ、宮崎駿監督の「(1)」が長編アニメーション賞に輝いた。日本の長編映画がアカデミー賞を受賞したのは、1955年に名誉賞に選ばれた「宮本武蔵」以来のことである。

ア. もののけ姫 イ. 魔女の宅急便 ウ. 千と千尋の神隠し エ. 茄子アングルシアの夏

B. 6月1日、主要国首脳会議が(2)東部の保養地エビアンで開幕した。イラク戦争後、主要8か国首脳が集まって討議するのは初めてのことであった。主な議題は、各国の景気回復や途上国支援などの経済問題、イラク復興や北朝鮮の核開発、中東和平などであった。

ア. フランス イ. スイス ウ. イタリア エ. スペイン

C. 7月2日、ユネスコ(国連教育科学文化機関)の第27回世界遺産委員会は、(3)の「バーミヤンの文化的景観と考古学的遺跡」、イラクの古代都市「アシュール遺跡」を世界遺産に登録することを決定した。同委員会は、この2つの遺産を「危機遺産リスト」にも登録し、国際社会に緊急支援をよびかけた。

ア. カンボジア イ. アフガニスタン ウ. パキスタン エ. インド

D. 10月1日、東海道新幹線に(4)駅が新設された。1964年に開業した東海道新幹線では17番目の駅となる。この日、初めて停車する「一番列車」に乗ろうと、乗客や鉄道ファンら約550人が早朝からホームにつめかけた。

ア. 新宿 イ. 渋谷 ウ. 新橋 エ. 品川

E. 10月8日、国連人口基金は2003年の『世界人口白書』を発表した。この白書によると、世界人口は昨年より1億人増え、(5)億人をこえたが、15～24歳の若者のうち4人に1人は極度の貧困状態にある。

ア. 43 イ. 53 ウ. 63 エ. 73

5 次のA・Bの文章を参考にして、あなたがしたい「国際貢献」について、100字以内で書きなさい。なお、句読点も1字と数えます。

A. 難民の支援

国連難民高等弁務官事務所(UNHCR)は、難民保護をおこなう国際機関として、1951年に設立されました。UNHCRの援助対象者は、2002年1月1日現在、世界全体で約1980万人いるといわれます。これらの人々は、生命や自由を奪われるという危険から逃れるために困難な生活を送っています。

2003年、前国連難民高等弁務官の緒方貞子氏が文化勲章を受章しました。緒方氏は、40をこえる国の難民キャンプを訪問するなど、難民問題の解決をめざして積極的に活動してきました。文化勲章で「国際貢献」が受章理由とされたのは初めてのことです。

B. パキスタンで野球指導

野球のアテネオリンピック予選をかねたアジア選手権が、2003年の10月31日から札幌ドームでおこなわれました。この大会では日本が優勝しましたが、準決勝リーグで敗退したパキスタンも、日本人が監督をつとめるということで注目を集めました。

パキスタンを率いる渡辺博敏氏は元プロ野球選手で、世界に野球を広める活動をしてきました。1999年にはアフリカのガーナで野球指導をした経験もあります。昨年8月にアジア野球連盟の要請を受けて、パキスタンの監督になりました。決勝リーグには進出できませんでしたが、初戦のインドネシア戦では逆転勝ちし、渡辺監督は初采配で初勝利をおさめました。