

平成 16 年度

北嶺中学校入学試験問題

社 会

(注意)

- 1 問題用紙が配られても、「はじめ」の合図があるまでは、中を開かないでください。
- 2 問題は全部で **10** ページで、解答用紙は 1 枚です。「はじめ」の合図があったら、まず、ページ数を確認してからはじめてください。もし、ページがぬけていたり、印刷されていなかったりする場合は、静かに手をあげて先生に伝えてください。
- 3 答えはすべて解答用紙の指定された解答らんを書いてください。
- 4 字数が指定されている場合には、特に指示のないかぎり句読点も数えてください。
- 5 質問があったり、用事ができた場合には、だまって手をあげて先生に伝えてください。ただし、問題の考え方や、言葉の意味・読み方などについての質問には答えられませんので注意して下さい。
- 6 「おわり」の合図で鉛筆をおき、先生が解答用紙を集めおわるまで、静かに待っていてください。

【1】つぎの文を読んで後の問いに答えなさい。

昨年の夏は全国的に冷夏といわれ、農作物も不作となるところが多く見られました。北海道は日本の中で高緯度にあるため冬の寒さも厳しく、冷帯気候に属しています。a 冷涼な気候と広い土地を利用した農業も特徴があります。1つの例として、道東の根釧台地で稲作ができないために1955年に(1)や1973年に新酪農村しんらくのつそんがつくられました。また、北海道は水産業もさかんで、かつて(2)漁業の基地であった釧路は、長い間**b 魚介類の水揚量**が全国1位でした。

北海道の歴史を見てみると、1869(明治2)年、「蝦夷地」から「北海道」に名前が変更になりました。この年、北海道の開発のために(3)が置かれ、多くの官営事業がおこり、さらに開拓と国防のために現在の札幌市琴似ことよにには(4)村が作られるなど、開発が進むことになりました。また、アメリカからクラーク博士を招いて北海道大学農学部の前身であるc 札幌農学校もつくられました。

それから約130年、北海道は大きく発展してきました。現在、政治・経済の中心地は180万人の人口を抱える札幌市です。札幌市は、現在、日本の中で、東京を除く都市の中では(5)番目に人口の多い都市です。北海道全体では約500万人の人が生活しています。北海道の場合、冬期に暖房エネルギーを必要とするため1世帯あたりのエネルギー消費量が全国の1.4倍と高く、その約7割を石油に頼っています。現在、d 北海道には水力発電所が62カ所、火力発電所が6カ所、原子力発電所が1カ所、その他の発電所が数カ所あります。将来的なことを考えると、石油エネルギーに頼らないエネルギー源を考えていかなければならないという課題があります。

問1 文中の(1)は「実験農場」ともよばれます。(1)に適する語句を、つぎの中から1つ選び、記号で答えなさい。

ア フロントニア イ タウンシップ ウ フィールドロット エ パイロットファーム

問2 つぎの①～②のそれぞれの問いに答えなさい。

① 文中の(2)に適する語句はベーリング海やオホーツク海に出漁してサケ・マス・カニなどをとる遠洋漁業のことです。(2)に適する語句を漢字2文字で答えなさい。

② 下線部bに関して、現在、水揚量が全国1位になっている漁港はどこですか。つぎの中から1つ選び、記号で答えなさい。

ア 釧路 イ 八戸 ウ 銚子 エ 焼津 オ 境

問3 文中の(3)に適する語句を、つぎの中から1つ選び、記号で答えなさい。

ア 札幌演武場 イ 開拓使 ウ 北海道開発局 エ 石狩支庁

問4 文中(4)にあてはまる村落の名を、つぎの中から1つ選び、記号で答えなさい。

ア 条里 イ 荘園 ウ 新田 エ 屯田兵 オ 隠田百姓

問5 文中(5)にあてはまる数字を答えなさい。

問6 下線部aに関して、北海道では農業がさかんで農産物の生産順位では全国上位の生産をあげているものが多いです。つぎの①～②の生産順位表にあてはまる農畜産物を下のア～クの中から、それぞれ選び記号で答えなさい。

ア ジャガイモ イ キュウリ ウ とうもろこし エ みかん
オ 肉牛 カ 乳牛 キ 豚 ク 羊

①	生産量 (千トン)
北海道	2161
長崎	129
鹿児島	87
茨城	54
青森	39

②	飼育頭数 (千頭)
北海道	860
岩手	60
栃木	60
千葉	56
群馬	53

問7 下線部cに関して、札幌農学校でクラーク博士の教えを受けた人物で、後に東京帝国大学の教授になり、1920年には国際連盟の事務次長となって国際平和のために尽くした人物はだれですか。

問8 下線部dに関連して、つぎの地図中のア～ウは北海道の主な発電所の位置を示しています。これについて下の①～②の問いにそれぞれ答えなさい。



① 地図中のア～ウの発電所の発電方法はつぎのうちどれですか。あてはまる方法をそれぞれ答えなさい。

火力 水力 原子力 風力 地熱 太陽熱

② 現在、北海道には発電用に石炭を採掘している炭鉱が11ありますが、地図中のウの位置にある砂川火力発電所では、地図中のAの山地にある石狩炭田の石炭を使って発電が行われています。この石狩炭田がある山地Aの名を答えなさい。

【2】つぎの文A～Cを読んで後の問いに答えなさい。

- A この県のある地域は、昔から外国文化の入口としての役割を果たしてきました。江戸時代にここで発見された「漢委奴国王」という金印はそれをよく表しています。また現在、この県には2つの政令指定都市がありますが、その1つの（ 1 ）市は、鉄鋼業を中心として工業が発達してきました。しかし、最近は鉄鋼業は昔のようにさかんではありません。
- B 昔の地域名でいうと羽後と陸中からなるこの県は、豊かな水に恵まれ、農業のさかんなところ です。日本で2番目に大きかった湖を埋め立てて大規模な農業を実現しています。また、日本最大の天然のブナ林のある（ 2 ）山地は、1993年には人類共通の財産としてユネスコの世界遺産に登録されました。
- C 内陸県であるこの県は、全国の都道府県の中で4番目に広い面積をもっています。しかし、高く険しい山々に囲まれて平地が少ないため、盆地や高地の気候を利用した農業がさかんです。また、昔は蚕かいこを飼って製糸業がさかんでしたが、現在はきれいな水と空気を利用した（ 3 ）機械工業がさかんです。

問1 文中の（ 1 ）～（ 3 ）にあてはまる語句を答えなさい。

問2 文Aに関連して、政令指定都市を2つもつ都道府県は、全国にもう1つあります。その都道府県の名を答えなさい。

問3 文Bに関連して、ユネスコの世界遺産には文化遺産と自然遺産があり、（ 2 ）山地は自然遺産として登録されています。日本には、この他にもう1カ所、自然遺産に登録されている所がありますが、それはどこですか。

問4 文Cについて、高冷地の気候を利用した農作物のうち、この県の生産割合が全国1位と2位の野菜の組み合わせとして適当なものを、つぎのア～オのうちから1つ選び、記号で答えなさい。

- | | | | | | |
|---|------|------|---|------|------|
| ア | レタス | ハクサイ | イ | レタス | タマネギ |
| ウ | タマネギ | ハクサイ | エ | ピーマン | ハクサイ |
| オ | ピーマン | タマネギ | | | |

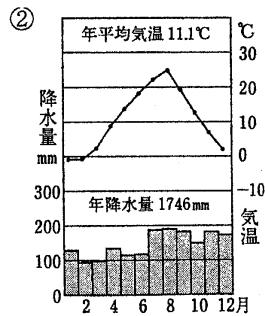
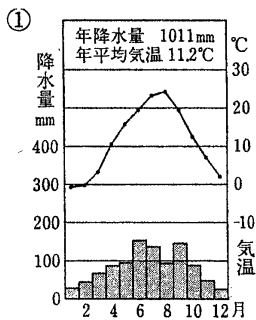
問5 文A～Cで表された都道府県の名を答えなさい。また、それぞれの場所を、つぎの地図中のア～キから選び記号で答えなさい。



問6 つぎの①～②のグラフは、A～Cの都道府県にある都市の気温と降水量を表したものです。

①～②のグラフとA～Cの都道府県の組み合わせとして正しいものをつぎのア～エから1つ選び、記号で答えなさい。

- ア ①-C ②-A イ ①-A ②-C
 ウ ①-B ②-A エ ①-C ②-B



【3】 つぎのA～Eの文を読んで、それぞれの問いに答えなさい。

A 朝廷で朝鮮からの使者をむかえる儀式のさい中、有力者の（ 1 ）が殺されるという事件がおこりました。その事件の中心は、中大兄皇子と中臣鎌足でした。これを大化改新といいます。

問1 文中の（ 1 ）はだれですか。

問2 大化改新の結果、政治のしくみはどのように変わりましたか。つぎのうちから正しくないものを1つ選び、記号で答えなさい。

ア 朝廷がもっていた土地と人民は、すべて豪族たちのものとなりました。

イ 有力な豪族たちは、高い位をさずけられ貴族となって政治に参加し、地方も国司などの役人が治めるようになりました。

ウ 唐の政治のしくみにならって、新しい国づくりをすすめました。

エ 人民は税を朝廷におさめることになりました。

B 平安時代の中ごろ、藤原氏が摂政や関白について、政治の実権を独占しました。「この世をばわが世とぞ思ふ望月のかけたることもなしと思へば」は、（ 2 ）が三人目の娘も天皇のきさきになった祝いの席でよんだ歌で、満足した気持ちがうかがえます。

問3 文中の（ 2 ）はだれですか。

問4 当時の貴族たちは、どのような生活をしていましたか。つぎの文うちから正しくないものを1つ選び、記号で答えなさい。

ア かな文字がつくられ、貴族の女性の中には、『源氏物語』などのすぐれた文学作品を書く人もいました。

イ 寝殿造のやしきに住み、四季おりおりに和歌や詩をよみ、音楽のわぎを競うなどしてくらしました。

ウ 儀式や行事を、しきたりどおり、はなやかに行うことが、政治の大事な仕事と考えていました。

エ 天然痘てんねんとくが広まり、都の有力な貴族にも死ぬ人があいつぎ、不安や混乱の中で生活をしました。

C 足利義満は京都の北山に金閣を建て、また、室町に「花の御所」とよばれるやしきをつくり、その力をほこりました。しかし、8代将軍（ 3 ）のころ、幕府の力は弱まり、有力なけらいの大名が、京都でふたてに分かれて、はげしく戦いました。これを応仁の乱といいます。

問5 文中（ 3 ）はだれですか。

問6 応仁の乱のころ、農民は自分たちの生活を守るため、村の有力者を中心に団結して、領主に反抗したりしました。1485年には、現在の京都府南部の住民たちが団結して一揆をおこし、8年間も自治を行いました。この一揆を何といいますか。

D 織田信長は、全国統一をすすめる途中で、明智光秀にうたれました。その光秀をうち、信長の仕事をうけついだしたのは豊臣秀吉でした。秀吉は 10 年たらずの間に、ほぼ全国の大名をしたがえました。また、全国統一をすすめる中で、検地と刀狩を行いました。

問7 織田信長は 1560 年に桶狭間^{おけはざま}で有力な大名を破りました。この大名はだれですか。

問8 検地や刀狩が行われて、農民はどのように変わりましたか。つぎの文のうちから正しくないものを 1 つ選び、記号で答えなさい。

ア 農民は、その土地を耕作することが認められたかわりに、きめられた年貢を責任をもっておさめるように命じられました。

イ 農民は、農業のほか必要に応じて商業も許され、勝手に土地をはなれることができるようになりました。

ウ 年貢をおさめる時には、全国どこでも同じ大きさのますではかられるようになりました。

エ 農民は、武士とはっきり区別され、こののち、武器をとって戦えなくなりました。

E 3代将軍徳川家光の時、九州の（ 4 ）でキリスト教の信者を中心に、約 3 万数千名の農民たちが乱をおこしました。この地方の大名が、厳しく信者をとりしまったうえに、重い年貢を取りたてたからです。

問9 文中の（ 4 ）はどこですか。

問10 17 世紀の中ごろ、幕府は御触書^{おふれがき}（命令書）を出して、農民の日常生活を厳しくとりしまりました。その内容について書かれたつぎの文のうちから正しくないものを 1 つ選び、記号で答えなさい。

ア 朝早くから晩まで、よく働け。

イ 酒や茶を買って飲んではいけない。

ウ ふだんは、麦やあわなどを食べ、なるべく米を食べない。

エ 着物は、絹織物などを着て、麻やもめんを着てはいけない。

【4】つぎの明治以降の日本と戦争に関する文と図について、後の問いに答えなさい。

A 日本は（ 1 ）に対して、1876 年に不平等条約を押しつけ、貿易で利益を得ると同時に支配権を及ぼしていこうとしました。そのため、（ 1 ）を形式的に支配していた清と対立を深めました。1894 年に（ 1 ）に内乱がおこると、日本と清は軍隊を送り、両国の間で戦争となりました。

問1 文中の（ 1 ）について、つぎの①～②の問いに答えなさい。

① （ 1 ）にあてはまる国の名を答えなさい。


② 右の図は、この戦争直前の各国を皮肉を込めて描いた風刺画ですが、文中の（ 1 ）の国は図の中でどのように表されていますか。つぎのア～エのうちから1つ選び、記号で答えなさい。

ア 釣り糸をたれている左側の人物

イ 釣り糸をたれている右側の人物

ウ 釣り竿お釣を持って、橋の上で様子をうかがっている人物

エ 2人の人物が釣り上げようとしている川の中の魚



問2 この戦争の結果、日本が植民地とした地域はどこですか。

つぎのア～エから1つ選び、記号で答えなさい。

ア （ 1 ）の国 イ 台湾 ウ 樺太（サハリン）の南部 エ 満州

問3 文中の下線部について、日本が（ 1 ）の国に押しつけた条約は、当時の日本が欧米諸国から押しつけられていた条約と同様な内容でした。これらの不平等条約の内容として正しい文を、つぎのア～エから1つ選び、記号で答えなさい。

ア 犯罪を犯した外国人を自国の法で裁判できない。

イ 自国で生産されたものの輸出が禁止される。

ウ 外国から輸入された商品に高い関税がかけられる。

エ 自国の国民の裁判を外国人の裁判官が行う。

B ヨーロッパの大国ロシアは、シベリア鉄道を完成させ、東アジアに勢力をのぼしてきました。

清との戦争を終えた日本はこうしたロシアと対立しましたが、同じようにロシアの中国への南下をおそれた（ 2 ）と同盟を結び、ついに 1904 年にロシアとの戦争を開始しました。この戦争の結果、日本の国際的地位は飛躍的に高まりました。

問4 右の図は、日本が（ 2 ）の国と同盟を結んだ様子を描いた風刺画です。この図を参考にして、（ 2 ）の国の名を答えなさい。


問5 文中の下線部について正しく述べている文を、つぎのア～エのうちから1つ選び、記号で答えなさい。

ア 清が滅ぶと同時に、広大な中国の全土を植民地とした。

イ ロシアから得た賠償金ばいしょうきんをもとに産業革命を達成し、経済大国となった。

ウ 外務大臣小村寿太郎の交渉によって、不平等条約が完全に改正された。

エ この戦争の直後に結成された国際連盟の常任理事国となった。



C 1914年に始まった第一次世界大戦によって、日本は好景気をむかえました。それは、世界大戦で(3)をかえりみる余裕がなくなった(4)諸国にかわって、日本商品が(3)の市場に進出し、同時に(5)向けの生糸の輸出も増大したためでした。また、第一次世界大戦中にはロシアで革命がおこり、ソヴィエト政権が誕生すると、これを認めない国々とともに日本もシベリアに大軍を派遣しました。

問6 文中の空欄(3)～(5)にあてはまる国または地域の組み合わせとして正しいものをつぎのア～エのうちから1つ選び、記号で答えなさい。

- | | | |
|-----------|---------|---------|
| ア 3-アジア | 4-ヨーロッパ | 5-アメリカ |
| イ 3-アメリカ | 4-アジア | 5-ヨーロッパ |
| ウ 3-ヨーロッパ | 4-アメリカ | 5-中国 |
| エ 3-アジア | 4-ヨーロッパ | 5-中国 |

問7 文中の下線部について、この影響でおこった出来事として正しいものを、つぎのア～エのうちから1つ選び、記号で答えなさい。

- ア 生糸の値段が急激に下がったため、北関東では借金を返せなくなった農民が高利貸しや役所をおそう秩父事件がおこった。
- イ 米の値段が急激に上がったため、生活に困った民衆が米屋などをおそう米騒動が全国的におこった。
- ウ 民主主義への意識が高まって普通選挙を求める動きとなり、すべての男女が衆議院の選挙権を持つ普通選挙法が定められた。
- エ 戦争に反対する声が全国的に広がって政府に憲法を守らせる運動が高まり、武力を持たないことが日本の方針となった。

D 第二次世界戦中から戦後にかけて、日本では右のような「衣料切符」が用いられ、政府が指定した点数分の切符がなければ繊維製品を買うことができませんでした。切符の配給は1人100点で、シャツは12点、靴下は1点でした。しかも戦争が激しくなるにつれて品不足が深刻になり、切符はあっても実際には買えない状況になりました。



問8 この当時の政府は、なぜ「衣料切符」のような制度を実施しなければならなかったのですか。その理由として正しいものを、つぎのア～エのうちから1つ選び、記号で答えなさい。

- ア 関東大震災によって多くの人々が被害を受け、衣料品が大量に必要であったため
- イ 経済の不況が長引き、数多くの衣料の工場が倒産したため
- ウ 戦時体制のもとで、軍隊に必要なものの生産が優先されたため
- エ アメリカ軍による空襲を受けて、衣料の工場の多くが破壊されたため

問9 文中の下線部について、第二次世界大戦中に、日本で唯一の住民を巻き込んだ地上戦が行われ、大きな被害を出した地域を、現在の都道府県名で答えなさい。

問10 「衣料切符」の制度が廃止されたのは、第二次世界大戦が終わって5年も後の1951年のことでした。このころの日本の様子として正しくないものを、つぎのア～エのうちか1つ選び、記号で答えなさい。

- ア 財閥^{ざいばつ}の解体や農地改革など、経済の面でも民主化が行われた。
- イ 労働組合法が制定され、働く者の権利が守られるようになった。
- ウ 戦争中にソ連に占領された北方四島（北方領土）が返還され、日本の領土となった。
- エ すべての子どもが9年間の義務教育を受けるようになった。

【5】環境問題に関するつぎの文を読んで、後の問いに答えなさい。

環境問題が日本で最初に大きく取り上げられたのは、明治時代のa足尾銅山の鉱毒公害でした。この足尾鉱毒事件にしても、昭和時代のb水俣病にしても、昔の環境問題はある地域のc公害問題で、特定の会社がおこしたものでした。

その後、工業が大きく発展するにつれてd四日市市のコンビナートで発生したぜん息のように、広い地域で、しかも、いくつかの会社によって公害がおこされるようになりました。さらに公害は全国に広がり、いろいろな公害が重なり合って、今日ではe日本だけの問題ではなく地球全体の環境破壊へと大きな問題になっています。

現在、地球全体が抱えている環境問題として対策が急がれているものに、f地球の温暖化、g酸性雨、hオゾン層の破壊、i土地の砂漠化、j熱帯雨林の破壊などがあります。今や地球環境の悪化は、わたしたちの生活をおびやかそうとしています。しかし、わたしたち一人一人が、環境破壊の被害者であると同時に加害者でもあるという自覚をもって、省エネルギーやリサイクル社会に協力していかなければなりません。

問1 下線部aの公害を明治天皇に直接、訴えた人物を答えなさい。

問2 下線部bの病気が発生した都道府県名を1つ答えなさい。

問3 下線部cについて、四大公害といわれているもののうち、富山県で発生した病気の名を答えなさい。

問4 下線部dのコンビナートがある工業地帯として正しいものを、つぎのア～エのうちから1つ選び、記号で答えなさい。

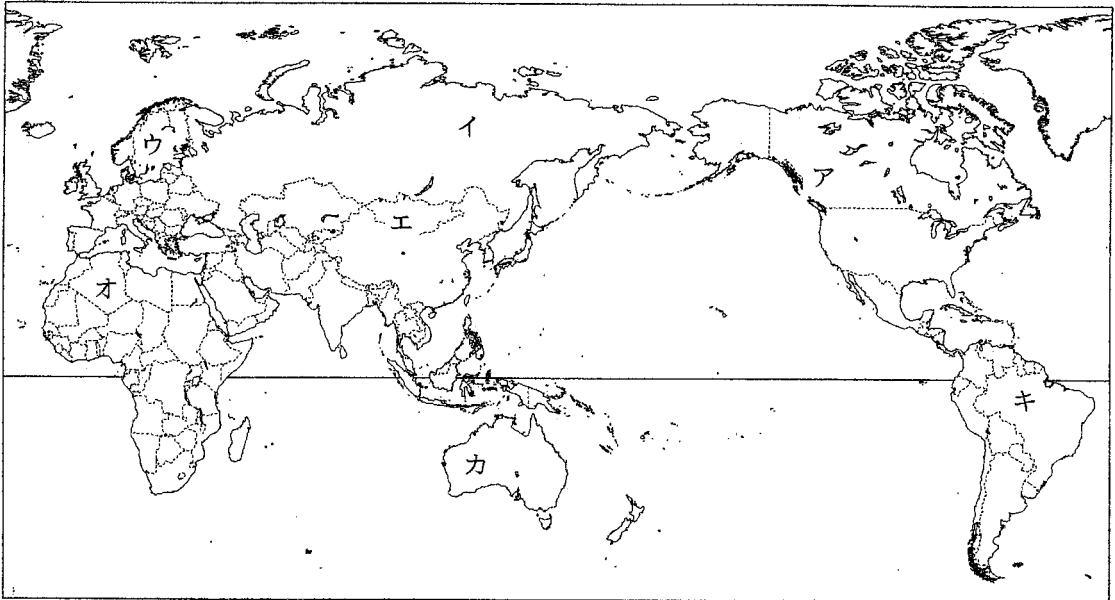
- ア 北九州工業地帯
- イ 阪神工業地帯
- ウ 中京工業地帯
- エ 京浜工業地帯

問5 下線部eについて、1997年には日本で先進国の温室効果ガスの削減目標^{まくげん}を定めた会議が開かれました。この会議が開かれた都市の名を答えなさい。

問6 下線部fについて、この影響でおこることとして正しいものを、つぎのア～エのうちから1つ選び、記号で答えなさい。

- ア 紫外線^{しがいせん}の量が多くなり、皮膚ガン^{ひふがん}などの病気になりやすくなる。
- イ 海水の量が増えて、海岸に近い低地が水没してしまう。
- ウ 雨水が地表に蓄えられず、川が氾らんして土砂が流れ出てしまう。
- エ 湖の魚が死滅したり、建物に使われている金属^{きんじゆく}が腐食してしまう。

問7 下線部gの雨が特に、森林や湖に大きな影響を及ぼしている地域を下の地図中のア～キから1つ選び、記号で答えなさい。



問8 下線部hの原因となっている物質の名を答えなさい。

問9 下線部iについて、つぎのそれぞれの問いに答えなさい。

- ① これが注目され始めたのは、アフリカの砂漠が南へ広がり、住人に被害が出たことによります。この世界一大きい砂漠の名を答えなさい。
- ② ①の砂漠の場所を上地図中のア～キから1つ選び、記号で答えなさい。

問10 下線部jについて、日本も東南アジアの熱帯雨林を伐採し大量に木材を輸入している国ですが、日本がこれらの木材を最も多く輸入している国の名を答えなさい。