

平成15年度 札幌光星中学校入学試験問題 社会

注意事項

1. 試験時間は、45分間です。
2. 開始の合図により、始めて下さい。
3. 印刷が不明な場合のほかは、問題についての質問は受けません。
4. 解答は、すべて解答用紙に記入してください。
5. 試験終了後は、解答用紙回収が終わるまで、席を立たず、静かにしててください。

1 札幌市内の小学6年生の太郎くんは、1泊2日の日程で修学旅行に出かけました。バスのとなりの席には、広島県尾道市の小学校から転校してきた洋平くんがすわっています。下の行程表と二人の会話を参考にして、下線部についての問いに答えなさい。

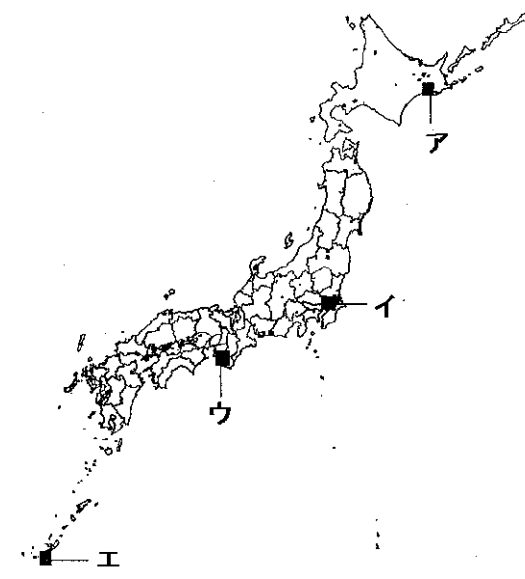
1日目	学校 ― 新千歳空港 ― ウトナイ湖 ― 有珠山 ― 洞爺湖 ― 旅館
2日目	旅館 ― しまりん館 ― おたる水族館 ― 学校

<学校（札幌市）から新千歳空港にむかうバスの中>

太郎： これから行く空港は北海道の空の玄関口で、いつもたくさんの人が利用して混雑しているよね。
 洋平： ぼくも広島から転校してきた時には利用したよ。おとうさんが言ってたけど、サッカーワールドカップの時には、①世界中の国々から多くのサッカーファンがやってきて混雑していたそうだよ。
 太郎： あの時、ぼくは札幌ドームでおこなわれたドイツ対②サウジアラビアの試合をみに行ったよ。

問1 下線部①について、現在の国際連合に加盟している国の数にもっとも近い数字を、下のア～エから1つ選び、記号で答えなさい。
 ア. 100 イ. 150 ウ. 200 エ. 250

問2 下線部②について、下の(1)・(2)に答えなさい。
 (1) この国でもっとも多くの人々に信仰されている宗教は何か答えなさい。
 (2) 日本がこの国から輸入している代表的なものは何か答えなさい。




<新千歳空港からウトナイ湖にむかうバスの中>

洋平： 次に行く湖は、③水鳥などのすみかとして大切な湿地を守るための条約に登録されていることで有名なんだよね。
 太郎： ウトナイ湖のある苫小牧市には自動車の部品工場があるんだよ。
 洋平： 広島県にも大きな④自動車工場があって、見学したことがあるよ。

問3 下線部③について、下の(1)・(2)に答えなさい。
 (1) この条約名を答えなさい。
 (2) この条約に登録されている「谷津干潟」の場所を、右の地図中のア～エから1つ選び、記号で答えなさい。

問4 下線部④について、右のグラフは世界のおもな国の自動車生産台数をあらわしたものです。日本にあてはまるものを、グラフのア～エから1つ選び、記号で答えなさい。



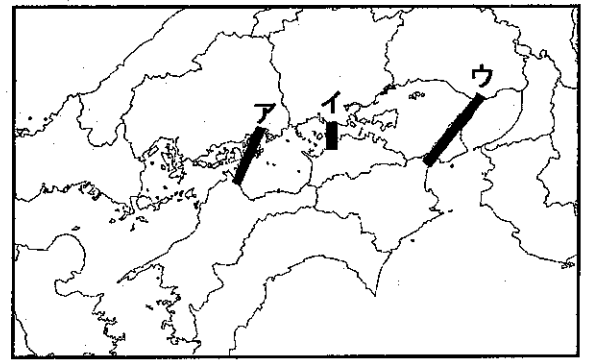
(主要国自動車統計 2000)

<有珠山から洞爺湖にむかうバスの中>

洋平： 近くから見る有珠山の噴火口は、迫力があったね。
 太郎： これから行く洞爺湖は、噴火でできた⑤カルデラ湖なんだよ。北海道は火山が多いからたくさん温泉があるよ。今晚の旅館も温泉なんだよ。
 洋平： ぼくも尾道から⑥「瀬戸内しまなみ海道」を通過して⑦四国の温泉に行ったことがあるよ。

問5 下線部⑤について、これにあてはまるものを、下のア～エから1つ選び、記号で答えなさい。
 ア. 琵琶湖 イ. 浜名湖 ウ. 宍道湖 エ. 十和田湖

問6 下線部⑥について、右の地図は本州四国連絡橋の3つのルートを示しています。「瀬戸内しまなみ海道」にあてはまるものを、地図中のア～ウから1つ選び、記号で答えなさい。



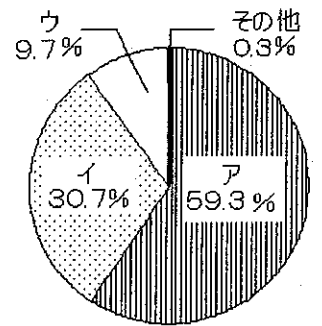
問7 下線部⑦について、これにあてはまるものを、下のア～エから1つ選び、記号で答えなさい。
 ア. 雲仙 イ. 別府 ウ. 道後 エ. 熱海

<とまりん館からおたる水族館にむかうバスの中>

洋平： とまりん館を見学して、⑧原子力発電所のしくみがよくわかったよ。ところで、次に行く水族館はどんなところなの。

太郎： ぼくは、何度も行ったことがあるけど、珍しい魚がたくさんいておもしろいよ。それに、小樽港から⑨新潟や舞鶴にむかうフェリーを見ることができるかもしれないよ。

問8 下線部⑧について、右のグラフは、わが国の発電エネルギー源の比率を示したものです。原子力にあてはまるものを、グラフ中のア～ウから1つ選び、記号で答えなさい。



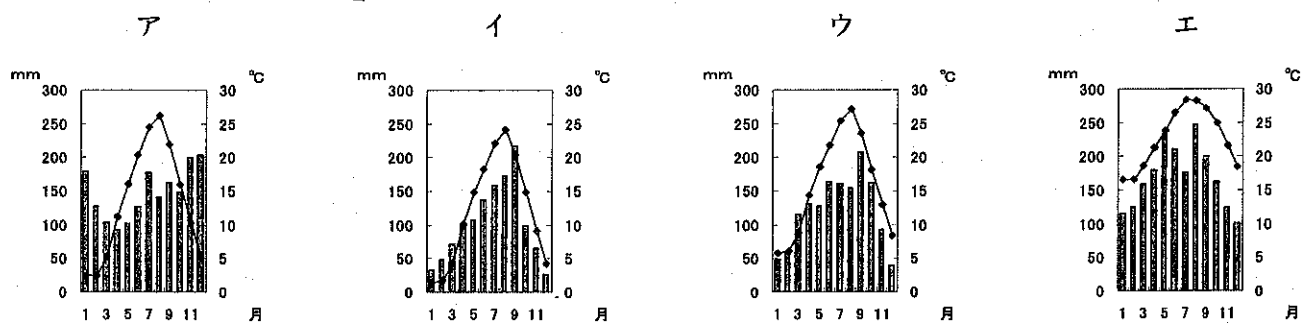
(電気事業便覧 2000)

問9 下線部⑨について、下の(1)・(2)に答えなさい。

(1) 新潟県で栽培されている稲の品種としてもっとも多いものを、下のア～エから1つ選び、記号で答えなさい。

ア. きらら397 イ. ひとめぼれ ウ. ササニシキ エ. コシヒカリ

(2) 新潟市の年間降水量と平均気温をしめしたものとして正しいものを、下のア～エから1つ選び、記号で答えなさい。



(理科年表 2002)

<おたる水族館から学校(札幌市)にむかうバスの中>

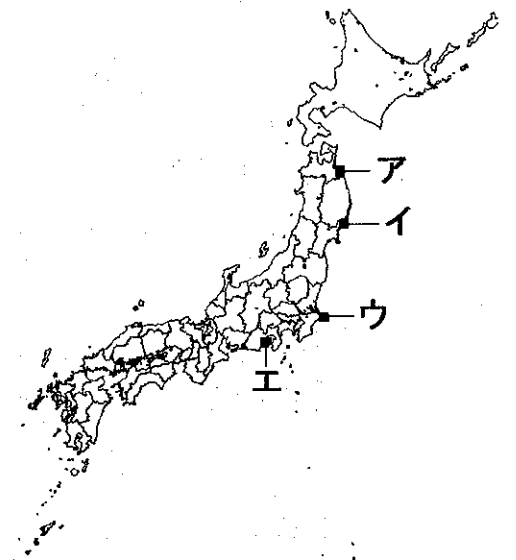
洋平： 水族館の近くには灯台や⑩漁港があったね。

太郎： 小樽は⑩漁業もさかんなんだよ。有名な小樽のガラス工芸も、もとは漁業用のガラス製品をつくっていたんだって。

問10 下線部⑩について、下の(1)・(2)に答えなさい。

(1) 漁港の地図記号を解答欄に書きなさい。

(2) 日本のおもな漁港のうち、1999年に漁港別の水揚げ量が第1位であった「焼津港」の場所を、右の地図中のア～エから1つ選び、記号で答えなさい。



問11 下線部⑪について、近年は稚魚を海や川などに放し、自然の中で育てる漁業がさかんになっています。このような漁業を何というか答えなさい。

2

次のA～Jの文は、各時代のおもな政治上のできごとをあらわしています。文中の空欄（ 1 ）～（ 10 ）にあてはまる語句を答えなさい。

また、文中の下線部①～⑩についての問いにも答えなさい。

A. 3世紀の後半から4世紀にかけて、近畿地方から瀬戸内海沿岸地方で①古墳がつくられはじめ、やがて各地に広がっていきました。大阪府堺市にある大山古墳のような巨大な古墳は、近畿地方に多く見られます。これは、この地域の豪族たちが強い勢力をもっていたためと考えられます。これらの古墳は、日本独特の形をしているものが多く、（ 1 ）墳とよばれています。

問1 下線部①について、古墳の副葬品（遺体といっしょにおさめられた物）にあてはまらないものを、下のア～エから1つ選び、記号で答えなさい。

- ア. 鏡
- イ. 貨幣
- ウ. 剣
- エ. よろい

B. 6世紀ごろ、大和朝廷の豪族たちは政治のすすめ方をめぐって争いました。その後、（ 2 ）天皇の摂政となった聖徳太子は、朝廷の有力者であった蘇我馬子と協力し、政治改革をすすめ、②十七条の憲法を定めました。

問2 下線部②について、この内容にあてはまらないものを、下のア～エから1つ選び、記号で答えなさい。

- ア. 仏の教えをあつく敬うことを決めた。
- イ. 天皇の命令には必ず従うことを決めた。
- ウ. 農民に一定の広さの土地を与えることを決めた。
- エ. 役人の守るべき心がまえを決めた。

C. 8世紀の中ごろには、伝染病や飢饉・戦乱がおこるなど、世の中が混乱しました。聖武天皇は、仏教の力によって人々の不安をしずめることで、国を守ろうと考えました。そこで、③都には東大寺、地方には国ごとに（ 3 ）をつくることを命じました。

問3 下線部③について、この都を、下のア～エから1つ選び、記号で答えなさい。

- ア. 長岡京
- イ. 平安京
- ウ. 藤原京
- エ. 平城京

D. 9世紀の後半からは、④摂政や関白になった藤原氏が政治の実権をにぎりました。この時代の貴族たちは、（ 4 ）造の屋敷に住み、はなやかなくらしをおくっていました。

問4 下線部④について、「この世をばわが世とぞ思うもち月のかけたることもなしと思えば」という歌をよんだ人物を、下のア～エから1つ選び、記号で答えなさい。

- ア. 藤原道長
- イ. 藤原頼通
- ウ. 藤原鎌足
- エ. 藤原不比等

E. 13世紀後半に、（ 5 ）人が中国に元を建国しました。元は2度にわたって日本に攻めこみ、北条時宗によって九州に集められた⑤西日本の武士たちは、元軍の攻撃に苦戦しました。

問5 下線部⑤について、この様子をしめす絵を、下のア～エから1つ選び、記号で答えなさい。

ア.



イ.



ウ.



エ.



F. 1543年、⑥日本に鉄砲が伝来しました。鉄砲は戦国の世にまたたくまに広がりました。1575年の長篠の戦いで、織田・徳川連合軍は3千丁の鉄砲を使い、甲斐の(6)氏の強力な騎馬隊を打ち破りました。

問6 下線部⑥について、これを伝えたのはどこの国の人か、下のア～エから1つ選び、記号で答えなさい。
ア. ポルトガル イ. スペイン ウ. オランダ エ. イギリス

G. 1853年、ペリーが来航し、翌年に結ばれた(7)条約によって、日本は開国することになりました。その後、貿易の影響などで人々の生活は混乱し、幕府をたおそうとする動きが強まりました。その結果、1867年に⑦江戸幕府は滅亡しました。

問7 下線部⑦について、このときの将軍を、下のア～エから1つ選び、記号で答えなさい。
ア. 徳川家光 イ. 徳川綱吉 ウ. 徳川吉宗 エ. 徳川慶喜

H. 1904年、朝鮮半島での利益を守ろうという声が強まる中、(8)戦争が始まりました。しかし、「君死にたまふことなかれ」の詩をつくって反戦をうったえた⑧女性歌人もいました。

問8 下線部⑧について、この人物を、下のア～エから1つ選び、記号で答えなさい。
ア. 樋口一葉 イ. 与謝野晶子 ウ. 平塚らいてう エ. 市川房枝

I. 1925年、⑨普通選挙法が成立し、以前よりも多くの人々が選挙権を持つようになりました。また、政治や社会を変えようとする活動をおさえるため、同じ年に(9)法も成立しました。

問9 下線部⑨について、この内容として正しいものを、下のア～エから1つ選び、記号で答えなさい。
ア. 20歳以上のすべての男子に選挙権が与えられた。
イ. 20歳以上の男女すべてに選挙権が与えられた。
ウ. 25歳以上のすべての男子に選挙権が与えられた。
エ. 25歳以上の男女すべてに選挙権が与えられた。

J. 1951年、日本はアメリカ合衆国で開かれた(10)講和会議で平和条約を結び、独立を回復しました。沖縄はその後アメリカに占領され続けましたが、⑩1972年に日本に返還されました。

問10 下線部⑩について、この年に日本と国交を開いた国を、下のア～エから1つ選び、記号で答えなさい。
ア. 大韓民国 イ. 朝鮮民主主義人民共和国 ウ. 中華人民共和国 エ. 中華民国

3

次の文は、「日本国憲法」の一部です。この条文を読んで、文中の空欄（ 1 ）～（ 3 ）にあてはまる語句を答えなさい。また、条文についての問いにも答えなさい。

第1条

天皇は、日本国の（ 1 ）であり日本国民統合の（ 1 ）であって、この地位は、主権の存する日本国民の総意に基づく。

問1 天皇の仕事にあてはまらないものを、下のア～エから1つ選び、記号で答えなさい。

- ア. 国会を召集する
イ. 内閣総理大臣を任命する
ウ. 衆議院を解散する
エ. 法律を制定する

問2 主権をもつ国民はさまざまな形で政治にかかわっています。このことについて、内容のまちがっているものを、下のア～エから1つ選び、記号で答えなさい。

- ア. 憲法改正のときには国民投票を行う。
イ. 一定の年齢以上の人は、国会議員に立候補できる。
ウ. すべての裁判官は、国民審査を受ける。
エ. 都道府県知事や市町村長は、地域の住民が直接選挙する。

第9条

- 1 日本国民は、正義と秩序を基調とする国際平和を誠実に希求し、国権の発動たる戦争と、武力による威嚇又は武力の行使は、国際紛争を解決する手段としては、永久にこれを放棄する。
2 前項の目的を達するため、陸海空軍その他の戦力は、これを保持しない。国の（ 2 ）権は、これを認めない。

問3 平和主義をかかげる日本は世界でただひとつの被爆国であり、国際社会で核兵器の廃絶をうたえています。1945年8月9日に原子爆弾が投下された都市を、下のア～エから1つ選び、記号で答えなさい。

- ア. 長崎
イ. 福岡
ウ. 大阪
エ. 広島

問4 政府がPKO協力法に基づき、1992年にはじめて自衛隊を海外に派遣した場所を、下のア～エから1つ選び、記号で答えなさい。

- ア. モザンビーク
イ. カンボジア
ウ. ルワンダ
エ. グラン高原

第11条

国民は、すべての基本的人権の享有を妨げられない。この憲法が国民に保障する基本的人権は、侵すことのできない永久の権利として、現在及び将来の国民に与えられる。

第25条

- 1 すべて国民は、（ 3 ）で文化的な最低限度の生活を営む権利を有する。
2 国は、すべての生活部面について、社会福祉、社会保障及び公衆衛生の向上及び増進に努めなければならない。

問5 基本的人権にあてはまらないものを、下のア～エから1つ選び、記号で答えなさい。

- ア. 教育を受ける
イ. 税金を納める
ウ. 裁判を受ける
エ. 職業を選ぶ

問6 社会福祉や社会保障などをおもに担当する国の機関を、下のア～エから1つ選び、記号で答えなさい。

- ア. 厚生労働省
イ. 総務省
ウ. 環境省
エ. 国土交通省

4 次のA～Fの文は、2002年のできごとです。文中の空欄（1）～（6）にあてはまる語句を、下のア～エから1つ選び、記号で答えなさい。

A. 1月1日、フランスやドイツなど12カ国で、単一通貨（1）の紙幣と硬貨の流通が始まった。これによって約3億人が共通の通貨を使うようになった。

ア. ポンド イ. リラ ウ. ユーロ エ. フラン

B. 2月9日、21世紀最初のオリンピックとなる第19回冬季オリンピック（2）大会が開催された。この大会は、史上最多となる77の国と地域から約2,530人の選手が参加した。

ア. アルベールビル イ. リレハンメル ウ. カルガリー エ. ソルトレークシティ

C. 4月16日、インドネシアから独立を勝ちとった（3）で大統領選挙が行われた。その結果、「独立運動の英雄」といわれるグスマン氏が当選し、5月20日の独立と同時に大統領に就任した。

ア. パラオ イ. 東ティモール ウ. パプアニューギニア エ. キリバス

D. 5月15日、沖縄が日本に復帰してから30周年をむかえた。しかし、今なお日本国内の米軍施設のおよそ（4）%が集中している。

ア. 10 イ. 25 ウ. 50 エ. 75

E. 9月10日、1815年から永世中立を国の方針としてきた（5）の国際連合への加盟が、国連総会で正式に承認された。

ア. スイス イ. オーストリア ウ. バチカン エ. モナコ

F. 10月9日、スウェーデンの王立科学アカデミーは、2002年ノーベル化学賞を京都の精密機器メーカーの主任研究員（6）氏など3名に授与すると発表した。

ア. 白川英樹 イ. 野依良治 ウ. 田中耕一 エ. 小柴昌俊

5 次の写真と説明文を参考にして、下の問いに答えなさい。



左の写真は、1994年にユネスコの世界遺産に登録された、フェルクリンゲン製鉄所です。

19世紀から20世紀後半にかけて、ドイツの製鉄産業の中心として操業してきましたが、1986年に操業を停止しました。この製鉄所を取り壊して跡地を有効利用するかどうか議論がございましたが、ザールラント州は1992年に記念建造物として保存することを決めました。

現在、この施設は一般公開され、ドイツの産業の歴史を学ぶ場になっています。また、音楽祭や美術展などの会場としても活用されています。

この製鉄所は、人々に経済的豊かさをもたらす一方で、生活環境に悪影響をおよぼす面もありました。このような施設を世界遺産に登録し、保存することについて、自分の考えを100字以内で書きなさい。なお、句読点も1字と数えます。