

平成 15 年度

北嶺中学校入学試験問題

社 会

(注意)

- 1 問題用紙が配られても、「はじめ」の合図があるまでは、中を開かないでください。
- 2 問題は全部で **10** ページで、解答用紙は 1 枚です。「はじめ」の合図があったら、まず、ページ数を確認してからはじめてください。もし、ページがぬけていたり、印刷されていなかったりする場合は、静かに手をあげて先生に伝えてください。
- 3 答えはすべて解答用紙の指定された解答らんを書いてください。
- 4 字数が指定されている場合には、特に指示のないかぎり句読点も数えてください。
- 5 質問があったり、用事ができた場合には、だまって手をあげて先生に伝えてください。ただし、問題の考え方や、言葉の意味・読み方などについての質問には答えられませんので注意して下さい。
- 6 「おわり」の合図で鉛筆をおき、先生が解答用紙を集めおわるまで、静かに待っていてください。

1 次の文を読み、後の問いに答えなさい。

北海道は、日本の4つの大きな島の中で、最も北にある島です。面積はおおよそ日本全体の(①)を占め、4つの島の中で(②)番目の大きさをもっています。

人口は、約560万人で、おおよそ(③)が札幌市に集中しています。

いくつかの島だけで、1つの都道府県になっているのは、(④)ある都道府県の中で北海道と〔 a 〕県の2つだけです。

1つの都道府県としてみると、北海道は、面積はずば抜けて第1位なのに対して、人口は第7位ですから、その結果〔 b 〕は全国で最下位となっています。

この地が正式に「北海道」と呼ばれるようになったのは、今からおおよそ(⑤)年ほど前のことです。

現在の北海道は農業や水産業などが盛んなところとして全国に知られています。また、昨年6月のサッカーW杯では、イングランド-アルゼンチン戦が行われた場所として札幌の名は世界中に知られました。

しかし、農業も水産業も、^{こうけいしゅ}後継者不足や外国から入ってくる安い輸入品によって、いろいろと大変な問題をかかえています。

(1) 文中の(①)～(⑤)にあてはまる数を、下の語群から1つずつ選び、記号で答えなさい。

ア 1 イ 2 ウ 3 エ 4 オ 43 カ 45 キ 47

ク $\frac{1}{3}$ ケ $\frac{1}{4}$ コ $\frac{1}{5}$ サ 100 シ 130 ス 150 セ 200

(2) 文中の〔 a 〕〔 b 〕にあてはまる語句を答えなさい。

(3) 日本の面積は、おおよそどれくらいですか。下の語群からあてはまるものを1つ選び、記号で答えなさい。

ア 18万km² イ 28万km² ウ 38万km² エ 48万km²

(4) 日本で最も北にある場所は、日本が「北方領土」と主張している島にあります。その島の名を、下の【語群A】から1つ選び、記号で答えなさい。

また、その場所の緯度は、北緯何度ですか。下の【語群B】から1つ選び、記号で答えなさい。

【語群A】

ア エトロフ イ サハリン ウ オクシリ エ クナシリ
オ ハボマイ カ シコタン

【語群B】

ア 北緯39度 イ 北緯41度 ウ 北緯43度 エ 北緯45度

(5) 日本が主張している「北方領土」に属さない島々を、(4)の【語群A】から2つ選び、記号で答えなさい。

(6) 文中の下線部について、ロンドンの緯度と札幌の緯度の組み合わせとして正しいものを、次のア～エから1つ選び、記号で答えなさい。

- | | | | | |
|---|------|-------|----|-------|
| ア | ロンドン | 北緯51度 | 札幌 | 北緯43度 |
| イ | ロンドン | 北緯41度 | 札幌 | 北緯43度 |
| ウ | ロンドン | 北緯41度 | 札幌 | 北緯51度 |
| エ | ロンドン | 北緯43度 | 札幌 | 北緯51度 |

2 次の文を読み、後の問いに答えなさい。

日本の国は面積が小さいですが南北に細長いので、南は亜熱帯から北は（①）帯までの気候にわたっています。また、大小さまざまな（②）が日本列島を縦横に走っているため、気候の地域的な違いがあります。特に、列島の背骨にあたる場所に大きな（②）があるので、日本海側と太平洋側の気候の違いは最もいちじるしいものです。

気候に影響を及ぼすものに（③）があります。夏は太平洋方面から南東の（③）が、冬はシベリア大陸から北西の（③）が吹きます。このため夏は気温が高く蒸し暑く、冬は日本海側で雪が降り、太平洋側では乾燥した晴れの日が多くなります。

そして、日本の気候にあらわれる現象に夏至を中心^{けし}に40日余りの雨期があります。この雨期を（④）と言ひ、この時期の後半にはしばしば集中豪雨がおこります。また、夏から秋にかけて赤道付近で発生した低気圧が、日本列島でしばしば風水害を及ぼします。これを（⑤）と言ひます。

(1) 文中の（①）～（⑤）にあてはまる語句を答えなさい。

(2) 文中の下線部について、日本のようにまわりを海に囲まれている国を何といいますか。漢字二字で答えなさい。

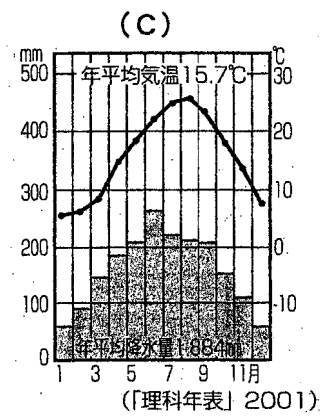
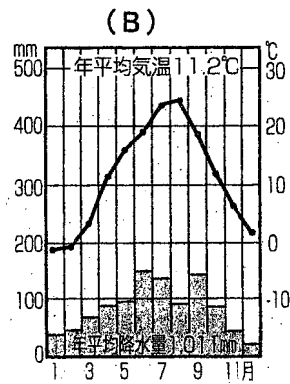
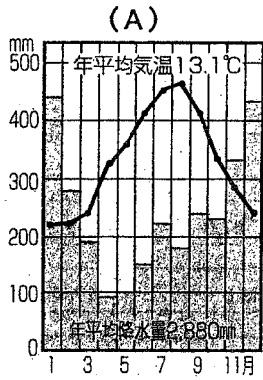
また、このような国で日本より面積の小さい国を下から選び、記号で答えなさい。

ア 大韓民国 イ フィリピン ウ インドネシア エ タイ

オ クウェート

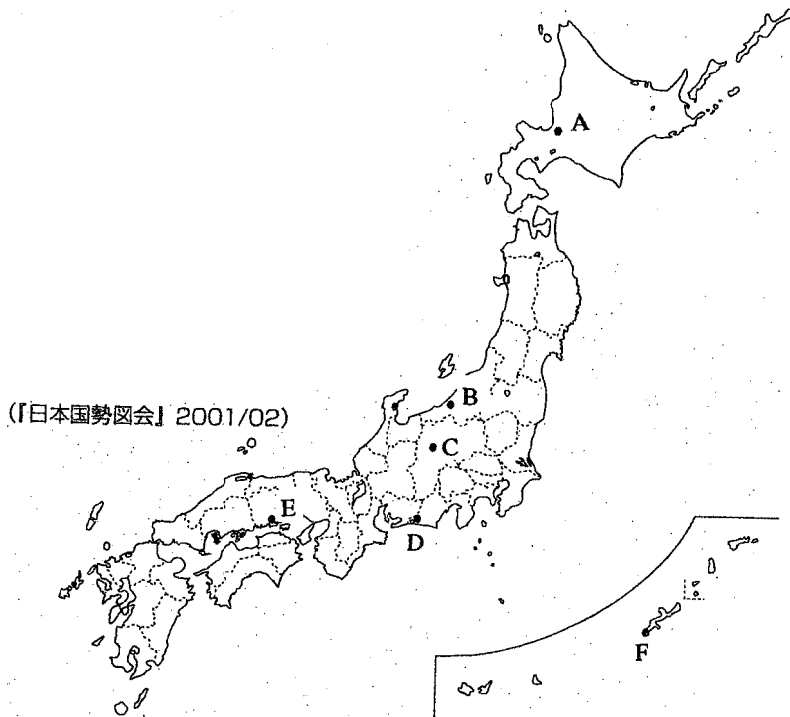
(3) ①日本や東南アジアの国々のような高温で雨の多い地域で栽培される農作物のうち、世界の三大穀物^{こくもつ}に含まれるものは何ですか。②また、日本の九州地方などでみられるように、この農作物を収穫した後に、別の種類の作物をつくることを何といいますか。

(4) 下のグラフ (A) ~ (C) は気温と降水量を表しています。これらのグラフは、それぞれどの気候を表していますか。地名を下から選び、記号で答えなさい。
また、それぞれの場所を、地図中のA~Fから選び、記号で答えなさい。



【地名】

- | | | |
|------|------|------|
| ア 札幌 | イ 上越 | ウ 松本 |
| エ 浜松 | オ 岡山 | カ 那覇 |



3 次のA～Eの各文を読み、後の問いに答えなさい。

A 3世紀ごろになると、北九州や大和などでは、小さな国がまとめられて⁽¹⁾ 大きな国ができるようになりました。なかでも、大和の国がひととき大きくなり、⁽²⁾ 北九州から関東にかけて支配する国となり、朝鮮や中国とも行き来して、進んだ文化を取り入れるようになりました。

(1) 下線部(1)について、このような国の中で、①中国の皇帝に使いを送った国の名と、②その時の中国の王朝の名を、それぞれ下から選び、記号で答えなさい。

ア 倭の奴国 イ 邪馬台国 ウ 新羅 エ 高句麗
オ 隋 カ 漢 キ 唐 ク 魏

(2) 下線部(2)について、この国を治めた政府を何といいますか。

B 大化の改新から百年あまりたったころ、都の平城京では、東大寺の本尊^{ほんぞん}である大仏の開眼式^{かいげんしき}が盛大に行われました。この⁽³⁾ 大仏づくりを命じた天皇は、それからまもなく亡くなりましたが、その遺品は、開眼式に使われた品々とともに、今でも⁽⁴⁾ 正倉院の宝庫におさめられています。

(3) 下線部(3)について、①この天皇が亡くなる直前に、6度目の航海でようやくわが国にたどり着いた中国の僧の名と、②この天皇名を、それぞれ下から選び、記号で答えなさい。

ア 行基 イ 最澄 ウ 空海 エ 鑑真
オ 天智天皇 カ 聖武天皇 キ 推古天皇 ク 仁徳天皇

(4) 下線部(4)について、ここにおさめられている品々のなかには、つくり方やデザインが、インドやペルシアなどから伝わったと思われるものがあります。それが中国に伝わった陸路のことを何といいますか。

C 桓武天皇は、都を平安京に移して政治の引きしめをはかろうとしたが、他の貴族をおしのけた藤原氏が政治の実権をにぎるようになり、⁽⁵⁾ その勢いは、道長・頼通のころ頂点に達しました。一方、そのころ地方の豪族は、⁽⁶⁾ 自分の土地を都の有力な貴族や寺社に寄付してその保護をうけ、財産をまもるための戦いに備えるようになりました。

(5) 下線部 (5) について、①このころ女性によって書かれた有名な文学作品名と、②道長・頼通などの貴族たちが暮らした屋敷の建築様式を、それぞれ下から選び、記号で答えなさい。

ア 万葉集	イ 古事記	ウ 土佐日記	エ 源氏物語
オ 校倉造	カ 書院造	キ 寝殿造	ク 数寄屋造

(6) 下線部 (6) について、このような土地のことを何といいますか。

D 鎌倉幕府では、源氏の将軍は3代で終わりましたが、まもなく北条氏が幕府の実権をにぎって政治を動かすようになり、⁽⁷⁾ 幕府打倒をはかった朝廷軍を破って、その勢いはいっそう強まりました。しかし、その後の⁽⁸⁾ 2度にわたった元軍との戦いのあと、⁽⁹⁾ 勢いがおとろえはじめ、やがて天皇のよびかけに応じて立ち上がった諸国の武士や土豪によって倒されました。

(7) 下線部 (7) について、①この事件を何といいますか。②また、この事件をおこして隠岐に流された人物はだれですか。それぞれ下から選び、記号で答えなさい。

ア 平治の乱	イ 応仁の乱	ウ 承久の乱	エ 壬申の乱
オ 後鳥羽上皇	カ 後白河上皇	キ 後三条天皇	ク 後醍醐天皇

(8) 下線部 (8) について、2度目の戦いのころ、元を訪れていたイタリア人の世界的な旅行家はだれですか。

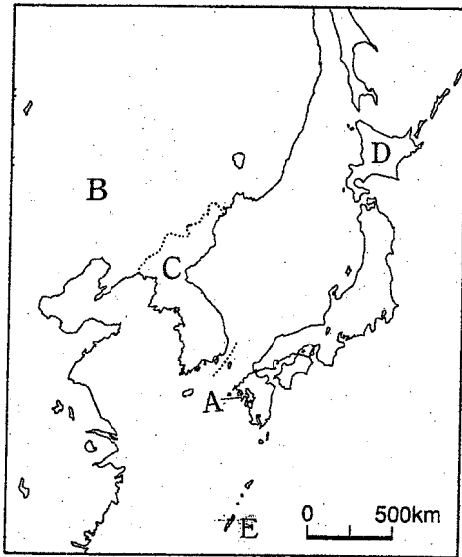
E 室町時代には、武士の力もいちだんと伸びましたが、反面、民衆の力も強まってきました。⁽⁹⁾ 町の人々の活動はさかんになって、いきいきとした民衆の文化が生まれるようになり、⁽¹⁰⁾ 農民も、領主の重い年貢や高利貸の借金取り立てに反対して立ち上がるようになりました。

(9) 下線部 (9) について、①このころ、自治活動が行われていなかったと思われる町と、②この時代にさかんになった文化を、それぞれ下から選び、記号で答えなさい。

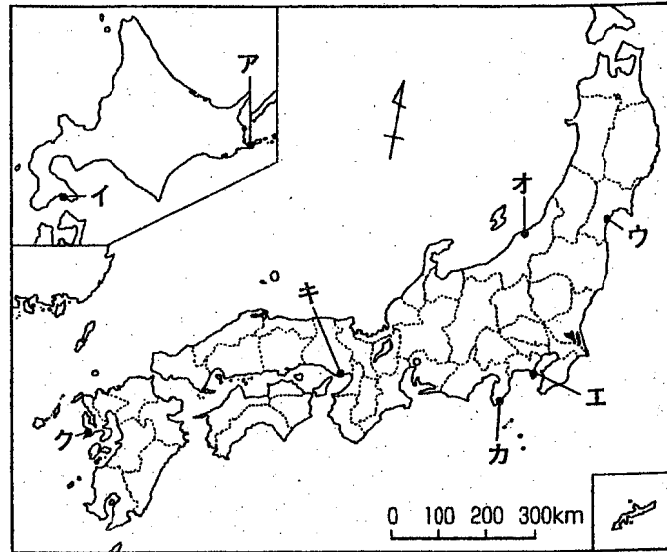
ア 博多	イ 堺	ウ 江戸	エ 京都
オ 浮世絵	カ 大和絵	キ 和歌	ク 茶の湯

(10) 下線部 (10) について、15世紀の前半に、近江や山城の農民たちが、京都の高利貸をおそいました。この事件を何といいますか。

4 次の各地図に関して、後の問いに答えなさい。



《地図1》



《地図2》

- (1) 《地図1》について。鎖国の完成によって、ヨーロッパの国々では1か国とだけ、Aの都市で貿易が行われるようになりましたが、そのヨーロッパの国の名と、Aの都市名を答えなさい。
- (2) 鎖国体制下でも、東アジアの国や民族とは通商や国交が持たれていましたが、《地図1》のB～Eの国や民族と日本との関係について述べた次の文のうち、誤りを含むものを、次のア～エから1つ選び、記号で答えなさい。

- ア Bの国とは、正式な国交はなかったが、Aの都市でさまざまな貿易が行われた。
- イ Cの国とは、正式な国交があり幕府の将軍の代わりに通信使が訪れた。
- ウ Dの地域の民族は、松前藩などの日本人商人との不利な貿易への不満を背景に、コシャマインの戦いをおこした。
- エ Eの国は、薩摩藩の支配を受けたが、Bの国とは独立国として貿易を行い、薩摩藩に大きな利益をもたらした。

- (3) 鎖国をする前の日本は、古くからさまざまな貿易を行っていましたが、①勘合貿易と②南蛮貿易について、主な貿易相手国を下の【語群A】から、また貿易に最も関係の深い語句を【語群B】から、それぞれ1つずつ選び、記号で答えなさい。

【語群A】ア 明 イ シャム ウ 宋 エ 清 オ ポルトガル

【語群B】カ 遣唐使 キ 日本町 ク 銅銭 ケ 鉄砲 コ 足利尊氏

- (4) 鎖国体制下でも、《地図1》のAの都市を窓口にヨーロッパの学問や技術が日本に入ってきましたが、そのような学問や技術も用いて、日本で初めて科学的な測量を行い、非常に正確な日本地図をつくった人物はだれですか。
- (5) 1853年にペリーが来航した場所を、《地図2》のア〜クから選び、記号で答えなさい。
- (6) 1854年にペリーとの間で結ばれた条約で開港した場所を、《地図2》のア〜クから2つ選び、記号で答えなさい。
- (7) 1858年にアメリカ・オランダ・イギリス・ロシア・フランスの5か国と結んだ条約で、日本は5港を開港して欧米諸国との貿易を開始しましたが、これに関連して、①輸出・輸入とも貿易額が最も大きかった日本の港と、②日本の主な輸出品を、それぞれ答えなさい。
- (8) (7) の条約は不平等な内容を含んでいたため、この条約の改正がその後の明治政府の重要な課題となりました。これに関連して述べた次の文ア〜エのうちから、誤っているものを1つ選び、記号で答えなさい。

ア 岩倉具視を団長とし、大久保利通や木戸孝允らを中心とする使節団が欧米を訪れたが、条約問題の交渉はできなかった。

イ イギリス船ノルマントン号の沈没で日本人乗客全員が水死した事件で、日本がイギリス人船長を裁判できず、国民の不満が高まった。

ウ 日清戦争の直前に外務大臣の陸奥宗光が治外法権の廃止を認める条約を結ぶことに成功した。

エ 日露戦争の直前に外務大臣の小村寿太郎が関税自主権の回復に成功し、不平等条約は完全に改正された。

- (9) 条約を改正するためには、日本でも欧米並の国家体制が成立していることを示す必要がありました。そこで、明治政府は1882年に伊藤博文をヨーロッパへ派遣して欧米諸国の憲法を調査させ、ある国の憲法にならって日本でも憲法を定めることにしましたが、その国とはどこですか。次のア〜エから正しいものを1つ選び、記号で答えなさい。

ア 議会制度が整い、なおかつ王権が尊重されているイギリス王国

イ 統一国家が成立してまもなく、皇帝の権限の強いドイツ帝国

ウ 共和国と帝国の両方の経験を持つフランス共和国

エ 当時の世界で最も民主的な政治体制を実現していたアメリカ合衆国

5 次の文を読んで、後の問いに答えなさい。

2002年、日本の政治において様々な出来事が起こりました。国会閉会前後には⁽¹⁾ 国会議員に関する様々な問題が起こり、あわせて4名の国会議員が辞職するという事態となり、国民は政治に対して不信感をつのらせました。⁽²⁾ 国会は、主権者である国民のために法律をつくる国権の最高機関であると憲法で規定されています。その国会から指名されて誕生した⁽³⁾ 小泉内閣は、景気対策がなかなか効果を上げず、景気低迷から抜け出せずにあります。

一方、地方の政治では、⁽⁴⁾ 長野県知事は脱ダム宣言を出すなどの政策を実施していましたが、議会によって不信任案が決議され知事選挙が行われました。また8月には⁽⁵⁾ 住民基本台帳ネットワークがスタートし、さまざまな議論が occurred しました。

私たち国民は、私たちの権利や日常生活に直接に関係している政治に対し、常に関心を持っていなければなりません。そして、それと同時に⁽⁶⁾ 国民として義務を果たすことも忘れてはいけません。

(1) 下線部(1)に関して、次の問いに答えなさい。

① 内閣総理大臣は国会議員の中から選出されることになっています。このように、内閣が国会の信任によって生まれ国会に対して責任を持つというような制度を何といいますか。

② 日本やイギリスの政府が①の制度をとっているのに対し、アメリカ合衆国は、国民が直接に国のリーダーを選ぶ制度を取り、リーダーに強い権限を持たせています。この制度を何といいますか。

(2) 下線部(2)に関して、次の問いに答えなさい。

① 国会は2つの議院から構成されていますが、そのうち議員数が480名である議院は何といいますか。

② 日本を含む多くの国では国会・内閣・裁判所をそれぞれ独立させ、1つの機関に権力が集中することを防ぐしくみがとられていますが、このしくみを何といいますか。

(3) 下線部(3)に関して、次の問いに答えなさい。

① 内閣に関して述べた次の文ア～オのうち、誤っているものを1つ選び、記号で答えなさい。

- ア 国会が定めた法律を実施するための政令を制定する。
- イ 外国と条約を結ぶ。
- ウ 最高裁判所の長官を指名する。
- エ 天皇の国事行為に対して助言と承認をあたえ、その責任を負う。
- オ 憲法改正の発議を行う。

② 一昨年(平成13年1月)に内閣を構成する省庁の改変があり、文部科学省や財務省、国土交通省などに再編成されました。その結果、以前は22あった省庁は、現在ではいくつになりましたか。

③ 国の行政機関や地方自治体で働いている人々を何といいますか。

(4) 下線部(4)に関して、この知事は、不信任案の議決後に行われた知事選挙で再選されました。この長野県知事はだれですか。

(5) 下線部(5)に関して、住民基本台帳ネットワークというものはどのようなものですか。次のア～エの中から正しいものを選び、記号で答えなさい。

- ア 住民税などを住民から確実に徴収するためのネットワーク
- イ 高齢者を中心とした住民に生きがいを持ってもらうためのネットワーク
- ウ 住民票などの個人情報在全国で利用できるようにした情報のネットワーク
- エ 住民の基本的人権が守られるようにするためのネットワーク

(6) 下線部(6)に関して、憲法は国民の3つの義務を定めています。そのうちの1つを答えなさい。